



دی ماه

به نام خداوند جان و خرد


نام :

پیگ آهپنه کلاسی سوم فرودوسی

نام خانوادگی :




ریاضی

۱) شکل رو به رو را دسته بندی کنید و برای آن یک ضرب و دو تقسیم بنویسید.




\times
 \div

۲) در شکل های زیر، ضلع های موازی را با رنگ کردن مشخص کنید.



۳) محور زیر را کامل کرده و سپس برای آن تقسیم بنویسید.



۴) در کلاسی ۷ نیمکت وجود دارد که بر روی هر نیمکت ۳ دانش آموزی نشیند.

تعداد دانش آموزان این کلاس چند نفر است؟

۵) شیرین ۲ شکلات دارد و می خواهد آن را به طور مساوی به ۴ نفر از دوستانش

بدهد. به هر کدام از دوستان شیرین چند شکلات می رسد؟

$8 \times \dots = 24$

۶) جاهای خالی را کامل کن :

$(4 \times 3) + (2 \times 3) = \dots \times \dots$ $(5 \times 4) + (6 \times 2) = \dots f \dots = \dots$

فارسی

۱ متن زیر را کامل کن

سعدی با قرآن و احادیث سرآسایی کامل دامت. مردم کسورفا، اردگردسه، ماکون با آمار سعدی آساهد در سخن گفتن، از جمله های بسیار رسای او اسفاده می کنند.

۲ حکایت «حتم طایی» از کدام شاعر بزرگ ایران است؟

۳ درست یا نادرست بودن جمله های زیر را مشخص کنید

سعدی اهل اصفهان بود. درست نادرست

سعدی بعد از سی و پنج سال سفر به شیراز برگشت

هم معنی کلمه «خافت» نیاز است.

۴ ۲ کلمه ای نقطه ای از درس نذینده ی بزرگ بنویس

علم

۱ زمانی که زنگ در ب مزل و با به صدادری آوری از چه نیرویی استفاده می کنی؟

کشیدن هل دادن متوقف کردن تغییر جهت دادن

۲ حرکت یک جسم نتیجه ی دارد آمدن به آن است

۳ نیرو که در کدام جهت به اجسام وارد می شود؟ بالا پایین راست چپ همی ندارد

مطالعات اجتماعی

۱ استفاده ی دوباره از مواد را می گویند

۲ زباله که را به روش می سوزانند یا می کنند

۳ شهرداری وظیفه ی جمع آوری زباله که را در سطح شهر برعهده دارد. درست نادرست

هدیه های آسمان

۱ میلاد حضرت زهرا (س) را روز نامیده اند

۲ نماز عید فطر در پایان ماه محرم برگزار می شود. درست نادرست



سریلند باشید.