



کلاس دوم

به نام خداوند جان و خرد

نام :


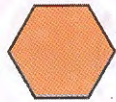
نام خانوادگی :

پیگ آهینه کلاسی دوم مینا

ریاضی

اشکال هندسی و جمع و تفریق اعداد دورقمی

① کامل کن : (گوشه که را روی شکل که نشان بده)



نام شکل

تعداد ضلع

تعداد گوشه

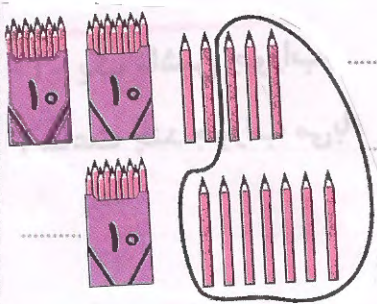
② جای خالی را با کلمه‌ی مناسب کامل کن :

• در مستطیل ضلع کمی روبرو با هم

• در مربع اندازه‌ی ضلع که با هم

مربع خط تقارن و مستطیل خط تقارن دارد.

③ جمع مربوط به شکل روبرو را بنویسید :



④ جمع و تفریق زیر را فرآیندی حل کنید :

$$\begin{array}{r} 43 \\ + 28 \\ \hline \end{array}$$

$$\begin{array}{r} 74 \\ - 28 \\ \hline \end{array}$$

⑤ اگر عقربه‌ی کوچک ساعتی بین 9 و 10 و

عقربه‌ی بزرگ روی عدد 12

باشد؛ ساعت چه زمانی را

نشان می‌دهد :





به نام خداوند جان و خرد

پیگ آهینه کلاسی هوم مینا



فارسی : چوپان درست کار :

① مخالف کله کی زیر رابنویس :

خالی : ایستاده : چاق : زرنگ :

② درس رانچوان و سپس با توجه به درس ، جای خالی را کامل کن :

چوپان هر روز شیر گوسفندان را و به خانگی گوسفند کمی برد .

چوپان هر بار او را می کرد و می گفت : « این کار نیست » .

③ معنی کله کی زیر رابنویس :

درخت ؟ یعنی با سلیقه یعنی کسی که دارد .

④ قطره قطره جمع گردد و انگهی دریا شود " چیست ؟ شعر ضرب المثل قطره قطره

زندگی ما و گردش زمین ا :



① بیشتر جانداران در شب استراحت می کنند . درست ○ نادرست ○

② گیاهان برای این که رشد کنند به خورشید نیاز دارند .

③ وقتی هوا سرد می شود ، مایع داخل لوله ای در مانج بالامی رود . درست ○ نادرست ○

④ گرمی زمین در شبانه روز تغییر نمی کند . درست ○ نادرست ○



① پیامبران بزرگ که اند ؟

۳-۱

۳

۴

۵

② پیامبران مردم را به چه کاری می گفند ؟

