



به نام خداوند جان و خرد


نام :

پیک آهسته کلاسی دوم مینا

نام خانوادگی :

ریاضی

آشنایی با مفهوم رقم



① شکل روبه رو چه عددی را نشان می دهد؟

• رقم های این عدد کدامند؟

• پنجمین عدد بعد از این عدد کدام است؟




② در جاهای خالی عدد مناسب بنویسید.



③ چند عدد یک رقمی داریم؟ آن ها را نوشته و دور بیشترین و کمترین عدد خط بکشید.

.....


④ کمترین عدد دورقمی  و بیشترین عدد دورقمی است.



⑤ یک عدد دورقمی بنویسید که یکانش ۵ و دهگانش ۲ تا بیشتر از یکانش باشد.

⑥ با کارت عدد های ۳ و ۵ چند عدد دورقمی می توان نوشت؟ بنویسید.

⑦ کدام دسته از عدد که، شل هم هستند؟ الف) ۷ و ۸ ب) ۶ و ۹ ج) ۵ و ۵



⑧ با توجه به محور اعداد، در جاهای خالی

 \square  = 

عدد مناسب بنویسید.



به نام خداوند جان و خرد

پیک آهنگه کلاسی دوم مینا



فارسی

درس اول

① در متن زیر، کلمه اشتباه نوشته شده است؛ در در آن ها خط بکشید و کلمه درست را در جای مناسب بنویسید:

در روز زیبایی پاییزی، صدای پرنده گان به گوش می رسید. دانش آموزان با ترنم و ترتیب وارد کلاس می شدند، احوال پرسی می کردند و روی کاغذ، پیشنهاد خود را می نوشتند.

- ۱ ۲ ۳ ۴ ۵
- ② شعر بهترین سر آغاز از کجاست؟ ناصکشا و رز ○ نظای ○ سعدی ○
- ③ در چه فصلی مدرسه ها بازمی شود؟ بهار ○ تابستان ○ پاییز ○

علوم

دنگ علوم

① برای بیان دقیق مشاهدات خرد از استفاده می کنیم.

② برای کدام جمله از حسن بویایی استفاده شده است؟

- چه غذای خوش مزه ای ○ قبل از دیدن غذایی دانستم ناهار چه داریم ○ چه غذای خوش رنگی ○
- ③ برای تشخیص زبری یا نرمی اجسام از حسن استفاده می کنیم.

بویایی ○ چشایی ○ بینایی ○ لامسه ○

④ در هنگام گردش علمی برای شناسایی چیزهایی که نمی شناسیم نمی توانیم از حسن

استفاده کنیم. چشایی ○ بینایی ○ شنوایی ○ لامسه ○

مدرسه مینا

① چه کسی بهترین و بهترین هدیه ها را به مادر داده است؟

② اگر خوشبخت بود چه می شد؟

سدر بلند باشید.
سیدیان

