



به نام خداوند جان و خرد

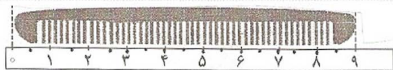
نام :

پیک آهینه کلانی دوم مینا


نام خانوادگی :



① پاسخ دهید



طول شانه برابر است با قسمت بزرگ . طول شانه برابر است با قسمت کوچک



طول مداد برابر است با قسمت بزرگ و قسمت کوچک .
طول مداد برابر است با قسمت کوچک .


② در جای خالی عددی مناسب بنویس . (با نشان راه حل)

$$۶۳ + \text{دایره} = ۷۵$$

$$\text{دایره} - ۲۶ = ۴۲$$

③ در مزرعه ای ۷ مرغ و گاو زندگی می کنند . اگر تعداد پاهای آن ک ۱۸ تا باشد چند مرغ و چند گاو در این مزرعه زندگی می کنند ؟





به نام خداوند جان و خرد



ویگ آهپنه کلاسی دوم مینا



۱) جاکسی خالی را با کلمه کمی مناسب کامل کن :

فردوسی یکی از بزرگ ایران است . آمارگاه او در شهر در نزدیکی شهر مشهد قرار دارد .

کتاب ارزشمند او نام دارد و بزرگ ترین پهلوان داستان های شاهانه است . او سال زحمت کشید تا این اثر عظیم را به شعر نوشت .

۵) با اضافه کردن نقطه ، کلمه کمی با معنی بساز :

مارک و مارک ، (فرمزه و فرمزه) ، (رور و رور) ، (مار و مار)

۳) کامل کن : بدم لانه بسازم بپریم پیش کبوتر



۱) کدام یک از وسیله های زیر برای حرکت ، احتیاج به سوخت ندارند؟

خودرو ○ هواپیما ○ کالسکه ○ کامیون ○
 ۲) در کشور ما ، از انرژی خورشیدی برای و استفاده می شود .

۳) سوخت کامیون که است . نفت ○ گازوییل ○ بنزین ○



: دفتر کلم ، هر روز نماز لا رکعتی را در خانه ، تکرار و تمرین کن :

۱) اولین مرحله در نماز است و ما روزانه رکعت نمازی خوانیم .

۲) قنوت را در رکعت نمازی خوانیم .

۳) در نماز دو رکعتی بار به سجده می رویم و بار سوره ای حمد را

خسته نباشید .

