



به نام خداوند جان و خرد

نام:

پیک آهینه کلاسی دوم مینا

نام خانوادگی:



① در جای خالی علامت ($>$), ($=$), ($<$) بگذار:

یک ساعت و ۲۰ دقیقه ۹۰ دقیقه

۳۰۰ + ده ده تایی ۳۹۰

۶۳۹ $۶۰۰ + ۳۰ + ۹$

۴ سانتی متر و ۷ میلی متر ۷۴ میلی متر

② الگوی عددی زیر را ادامه دهید:

۲۳۷ - ۲۴۰ - ۲۴۳ - - - - -

۴۸۰ - ۴۸۲ - ۴۸۴ - - - - -

③ جمع و تفریق های زیر را به روش فرآیندی حل کنید:

$$\begin{array}{r} ۴۸۵ \\ + ۱۱۹ \\ \hline \end{array}$$

$$\begin{array}{r} ۷۶۲ \\ - ۲۵۸ \\ \hline \end{array}$$

$$\begin{array}{r} ۳۶۵ \\ + ۱۲۷ \\ \hline \end{array}$$

④ قدم مریم ۱۳۰ سانتی متر است. او از برادرش ۱۵ سانتی متر

بلندتر است.

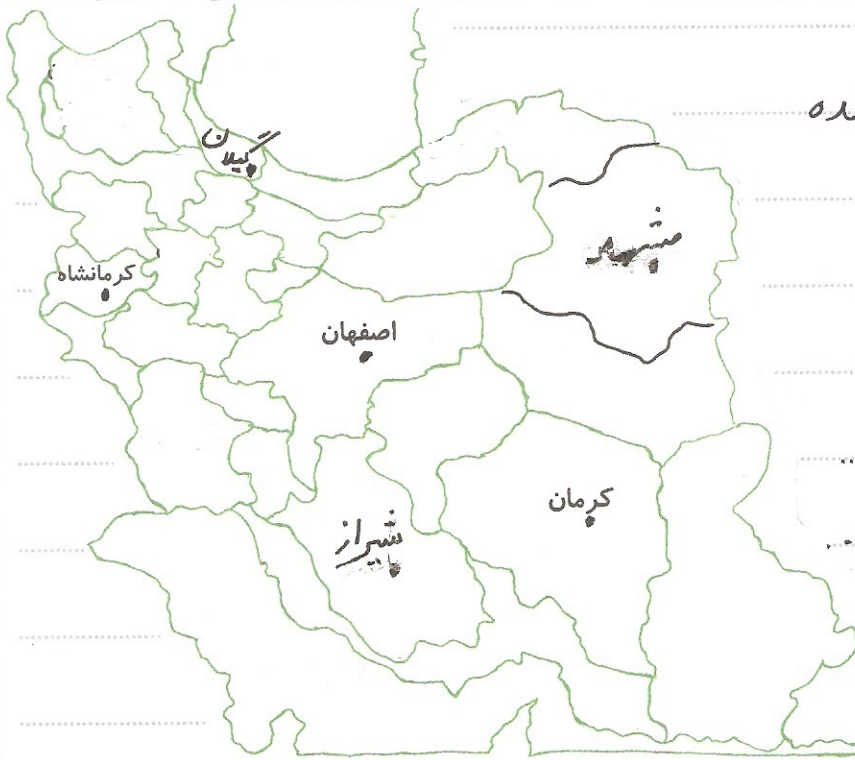
قدم برادر مریم و مریم با هم چند سانتی متر است؟





به نام خداوند جان و خرد

پیگ آهینه کلاسی دوم مینا



۱) نقاط دیدنی محل کی مشخص شده
را بر روی نقشه ی ایران بنویسید :

۲) با حروف به هم ریخته کلمه بساز:

(ن - م - ی -) ←


(ا - ف - ه - ا - ن - ص) ←

(ت - خ - م - د - ش - ت - ی - ج)

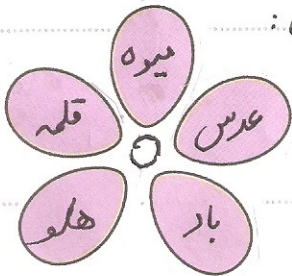


۳) کلمه کی زیر را با « ان » جمع ببند .

گوسفند : (.....) ستاره (.....) دونه (.....)



- با استفاده از کلمه کی داده شده ، جای کی خالی را کامل کن :



بعضی از گیاهان مانند شمعدانی رامی تران با زیاد کرد .

کار ، نگه داشتن دانه کی در خود است .

یکی از عوامل مهم جابه جا کردن دانه کی ، است .

میوه ای تنگ دانه است (.....) دانه ای دو قسمتی است . (.....)



نام امام سوم ما و نام دشمن ایشان بود .

نام خواهر ان ایشان و بود و ایشان در روز
در کربلا شهید شدند .

