


نوپا

به نام خداوند جان و خرد

پیک آهینه کلاسی دوم مینا



- ① از درس مثل دانشمندان، ۳ کلمه ی ۴ حرفی پیدا کنید و بنویسید.
- ② جای خالی را با کلمه های داده شده کامل کن: (بچینج ، بچپ ، قارقار ، جیک جیک ، شرشر)
- صدای بلبلی که به گوش می رسد .
- صدای آب را از دور می شنیدم .
- کلاغ ، می کند ولی گنجشک ، می کند .
- بچه ها در کلاس با هم می کردند .
- ③ کلمه های زیر با چه نشانه های کامل می شوند، آن ها را بنویس :
- درباغنه - بیعت - تعوییل - مراسم - سنجایک - سدم زمان -
- ④ ماه های فصل بهار ، و خرداد هستند .



- ① اصلی ترین ماده ی غذایی در کشور ما است . نان ○ برنج ○ گوشت ○
- ② برای خورد کردن دانه های گندم آن را می کنند . آسیاب ○ درو ○ خمیر ○
- ③ در قدیم برای گندم از " داس " استفاده می شد . کاشت ○ درو ○ آسیاب ○
- ④ چند نوع نان را نام ببر .



- ① از آداب غذا خوردن این است که لقمه ها را برداریم .
- ② ما باید باره کن و به آرامی غذا را بجویم .
- ③ به جای ذکر سجده یا رکوع در نماز می توان ۳ بار گفت :




بچه

به نام خداوند جان و خرد

پیگ آهینه کلاسی دوم مینا

نام:

نام خانوادگی:



① در شکل روبه رو:

چه کسری از گل لاله است؟

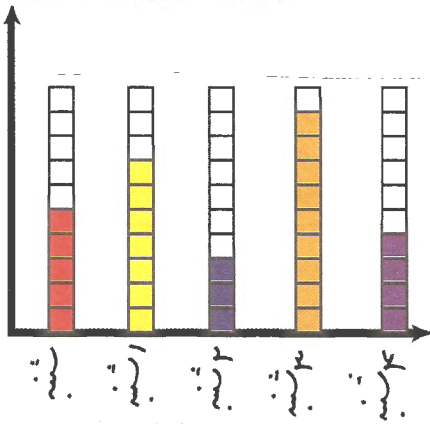
..... گل از گل لاله است.

چه کسری از گل لاله نیست؟ گل از گل لاله نیست.

② با کارت عددی ۲ و ۸ و ۵ بیشترین و کمترین عدد زوجی را که می توان نوشت بنویسید.
بیشترین کمترین

③ در ۳ کیسه ی یکسان ، ۱۰۰۰ ، ۱۰۰ و ۱۵ مهره ی قرمز ریخته ایم . اگر در هر کیسه

یک مهره سفید هم بیندازیم . بدون نگاه کردن شانس بیرون آمدن مهره سفید از کدام کیسه بیشتر است ؟



④ مهتاب ساعات مطالعه و درس خواندن خود را در

۵ روز اول هفته ، روی نمودار نشان داده است .

باتوجه به نمودار به پرسش های زیر پاسخ دهید:

مهتاب در کدام روز کمترین مطالعه را داشته است ؟

مهتاب در کدام روز بیشترین مطالعه را داشته است ؟

مهتاب در این ۵ روز چند ساعت درس خوانده و مطالعه داشته است ؟