



به نام خداوند جان و خرد

پیگ آهینه کلاسی دوم مینا



۱) با توجه به شماره‌ی درس که جای خالی را پر کنید :

در این از پدرم کردم و دارم مدرسه شدم . (درس چهاردهم)

در این هنگام همی کن سفره‌ی هفت سین می نشیند . (درس پانزدهم)

جشن نوروز شادابی مای شوره . (درس پانزدهم)

ناگهان آب دریا زرد آب به پراکنده شدند . (درس شانزدهم)

در یک روز من پدر و مادرم به پارک جنگلی رفته بودم . (درس هفدهم)

پدر ، قدم زنان به تماشای رفت ولی مادرم بود . (درس هفدهم)

توی خواهی دانشمند شوی ، خوب است ولی باید باشی به چیزهای دیگر زنی (درس هفدهم)

فردوسی این داستان که را کرد و بسیار عظیم پدید آورد . (درس دوازدهم)

زینب حرم ایستاده بود بزرگ همه جاران و باران کرده بودند . (درس نهم)

او از زیر ، مقداری بیرون آورد . (درس نهم)

۲) شعری زیر را کامل کن :

بدم روی لب تو ، گل لبخند بکارم

رویده لاله جانم فدایت .

خانه‌ی را آفتاب

به تابستان که گرما رو نماید

۳) شاعر شعری زیر چه کسانی هستند ؟

درخت کاری (.....) مایرستوکی شاد (.....)

شاداب باشید





به نام خداوند جان و خرد

پیک آهینه کلاسی دوم مینا


نام :

نام خانوادگی :


ریاضی : تمرین دوره ای (ساعت)

① مریم ، ساعت هفت و ربع از خانه خارج شد و بعد از ۲۵ دقیقه به مدرسه رسید . او چه ساعتی به مدرسه رسید ؟

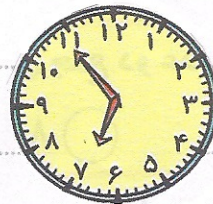
② زحانی را که هر ساعت نشان می دهد ، زیر آن بنویسید : (به صورت ریختاری)



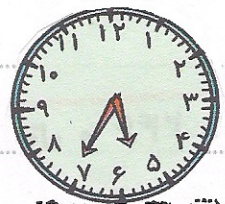
۱:۵۰



۲:۵۰

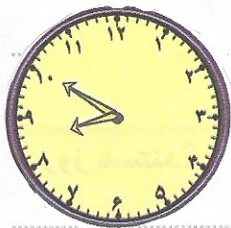


۳:۵۰



۴:۵۰

③ ساعت خانگی مهتاب زمان رو به رویشان می دهد . او باید تا ساعت ۹:۱۵ تکالیفش را به پایان برساند .



مهتاب چند دقیقه فرصت دارد تا تکالیفش را انجام دهد ؟


④ هر ساعت دقیقه است پس ۲ ساعت دقیقه می شود .

هر ساعت نیم ساعت است پس ۲ ساعت نیم ساعت است .

هر ساعت ربع ساعت است پس ۲ ساعت ربع ساعت است .

⑤ عقربه ی ساعت کمی زیر را بکشید تا زمان خواسته شده را نشان دهد :

یک ربع مانده به ۵ →



→ ده و نیم

