




به نام خداوند جان و خرد

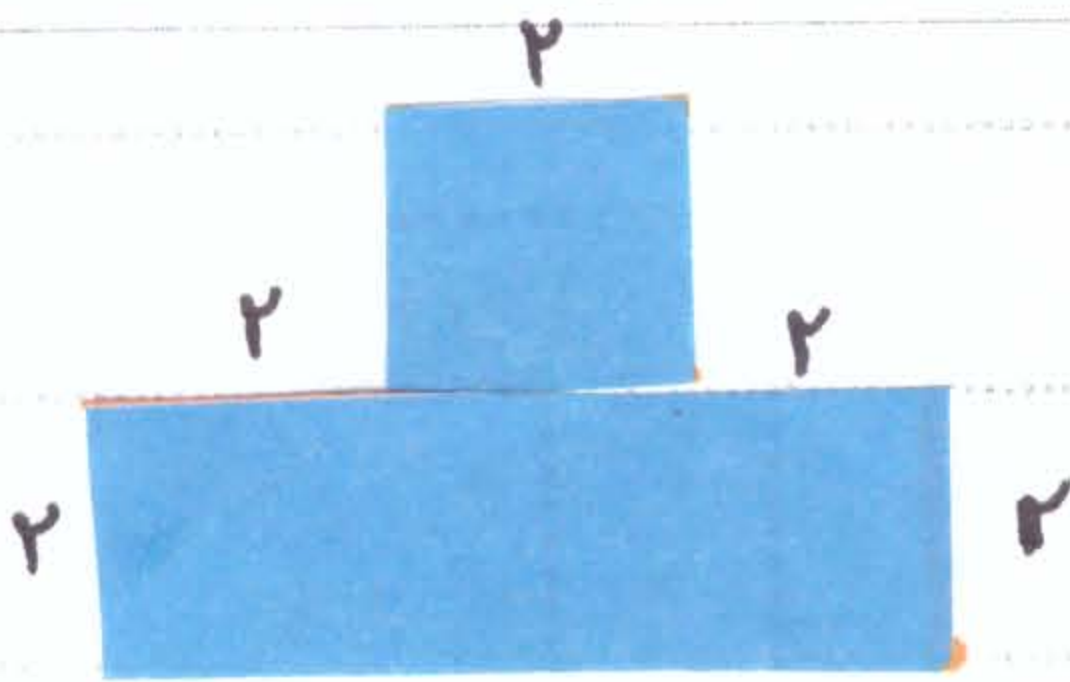
نام: .....

نام خانوادگی: .....


ویگ آدینه کلاسی سوم فردوسی



بهمن ماه



① محیط شکل روبه رو را به دست آورید:



② یک بسته مدار، ۵ مدار دارد. دریا بسته مدار.

چند مدار وجود دارد؟

③ مرده روزی ۴ صفحه از کتابش را می خواند. ۲۴ صفحه از کتابش را

در چند روز می خواند؟

④ مجموع ۲ عدد ۱۱ و حاصل ضرب آن ۱۸ است. آن دو عدد کدامند؟

$$\text{○} + \text{○} = 11 \quad \text{و} \quad \text{○} \times \text{○} = 18$$

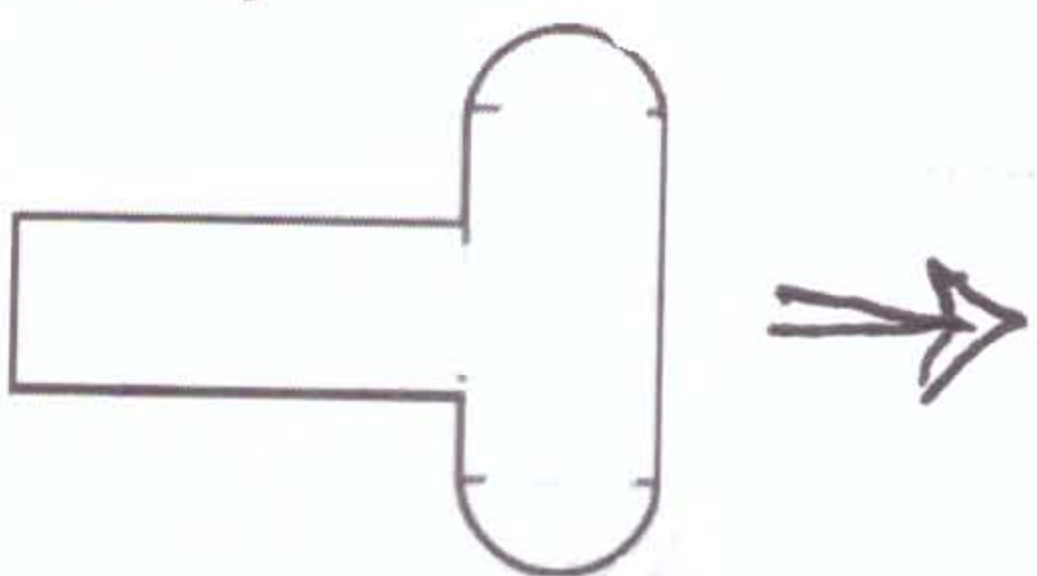
⑤ نیلوفر ۹ ساله است و سن مادرش ۴ برابر سن نیلوفر است. نیلوفر و مادرش

روی هم چند سال دارند؟

⑥ ۳ دسته ی ۶ تایی گل را به طور مساوی بین ۲ نفر تقسیم کرده ایم. به هر نفر چند گل

رسیده است؟

⑦ شکل زیر از خط های مختلفی تشکیل شده. خط ها را جدا کنید و قسمت های جدا شده را رسم کنید.



## فارسی

۱) در خوابان دبیدش " فرق خواب گزار اول و دوم چه بود؟

۲) شاعر در شعر نقش دنیا گفته چه کسی دلشنگی کل را شفای دار؟

۳) کامل کن:

نواسیم برای ..... ز ..... یا مشکل

آه ..... عزیز! سوزمین .....! تو چه زیبا .....! چه ..... هستی!

ابوریحان بیرونی یکی از ..... بزرگ کشورمان است

۴) بهم خانواده‌ی حکم‌دهی زیر را بنویس:

صبور (.....) حفظ (.....) حریص (.....) عاشق (.....)

## علم

۱) نیرو چه تأثیری بر اجسام دارد؟ (۱)

(۲) ..... (۳) ..... (۴) .....

۲) درست یا نادرست بودن جمله‌ی زیر را مشخص کنید: درست  نادرست

کره‌ی زمین بدون تماس با اجسام، آن‌ها را به سمت خودش می‌کشد.

وقتی در کمد را باز می‌کنیم آن را اهل می‌دهیم.

## مطالعات اجتماعی

۱) عشایر در ..... زندگی می‌کنند و شغل اصلی آن‌ها ..... است.

۲) همه‌ی اعضای خانواده بعد از انجام کارهایشان به ..... برمی‌گردند.

۳) در مناطق پر باران، سقف خانه‌ها را ..... می‌سازند.

عذیه‌ی کسی آسمان  قرآن از سوی ..... و توسط ..... به جهان انسان آمده است.

۲) ما مسلمانان قرآن را ..... آیات آن را ..... و سعی می‌کنیم در زندگی به آن عمل کنیم.

