



به نام خداوند جان و خرد


نام :

پیگ آهینه کلاسی سوم فرانسوی


نام خانوادگی :

اردیبهشت ماه

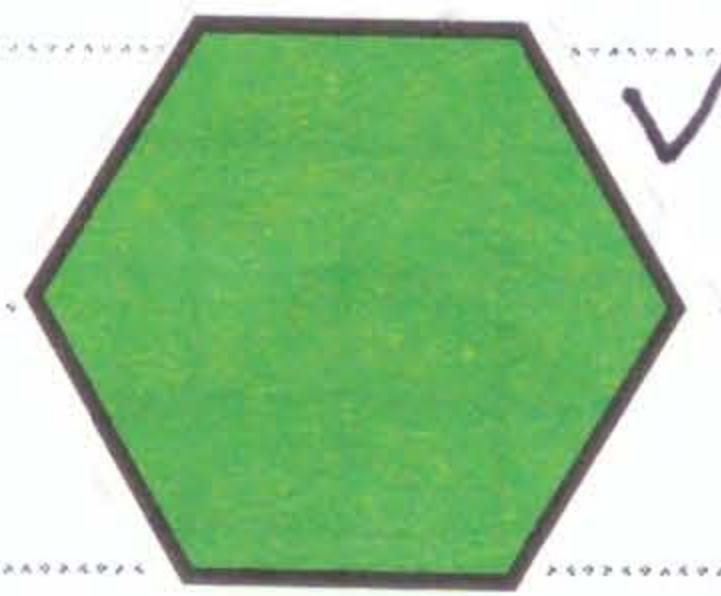

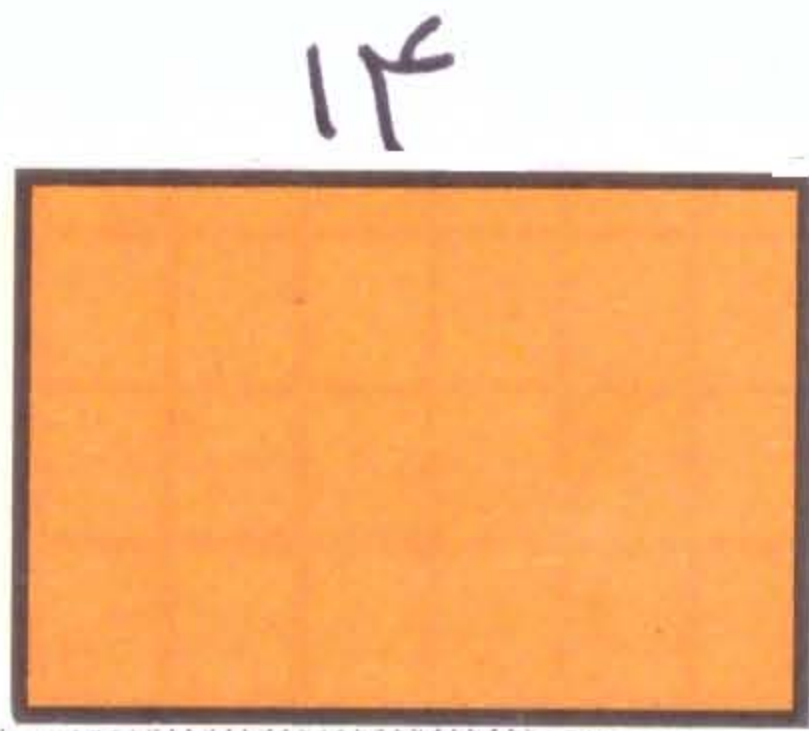
ریاضی



① برای شکل روبه رو، تفریق بنویسید:




② محیط شکل های زیر را محاسبه کنید: (عدد به سانتی متر است)



③ می خواهیم 60 سیب را به طور مساوی به 8 نفر بدهیم. به هر کدام چند سیب می رسد؟
چند سیب باقی می ماند؟

④ اگر یک تاس را بیندازیم. احتمال این که عدد 1 بیاید چه قدر است؟

⑤ برای شکل روبه رو ضرب بنویسید:



⑥ زمینی به شکل مستطیل به اندازه ای 1050 متر و پهنای 70 متر را می خواهیم کاشی کنیم.
به چند متر مربع کاشی نیاز داریم؟

۷) می خواهیم در راستخیزی به شکل مربع و به ضلع ۶۳ متر را دو دور زده بکشیم، به چند متر زده نیاز داریم؟

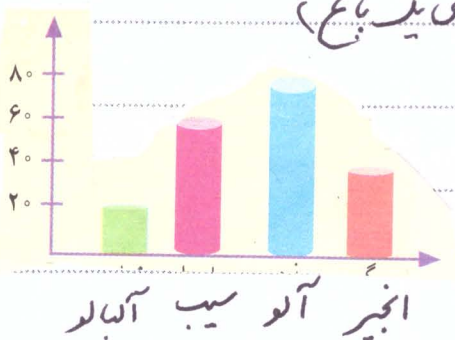
۸) عرض مستطیلی ۴ و طول آن ۳ برابر عرض آن است. محیط و مساحت این مستطیل

چقدر است؟

آیا عکس با سطح ۳۶ سانتی متر مربع در این مستطیل جا می شود؟

۹) اگر جرم هر ۱ عدد به طور تقریبی یک گرم باشد، یک کیلوگرم عدس چند عدد است؟

۱۰) با توجه به نمودار ستونی زیر به پرسش که پاسخ دهید: (درخت های یک باغ)



• تعداد درخت های باغ چندتا است؟

• کدام درخت تعدادش از همه بیشتر است؟

• تعداد درخت های انجیر چندتا است؟

۱۱) محیط یک مستطیل ۱۴ سانتی متر است. طول آن یک سانتی متر بیشتر از عرض آن است

طول و عرض این مستطیل چقدر است؟

(عدس را آزمایش)

۱۲) واحد اندازه گیری سطح است

• برای درست کردن استوانه احتیاج به کاغذی به شکل داریم

• برای درست کردن مخروط ، احتیاج به کاغذی به شکل داریم

۱۳) جمع و تفریق فرمایید: ←

$$\begin{array}{r} 3428 \\ + 1239 \\ \hline \end{array}$$

$$\begin{array}{r} 5847 \\ - 1429 \\ \hline \end{array}$$

