



مهر ماه


به نام خداوند جان و خرد

نام : .....

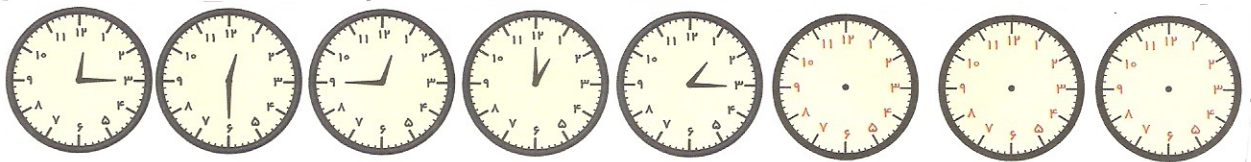
پیک آهینه کلاسی سوم فردوسی

نام خانوادگی : .....

① در هر ریف، الگوی بالا را ادامه بده و جای خالی را کامل کن :



الگوی بالا از ۹۶۰ شروع می شود و ..... تا ..... تا ..... می شود تا به ۸۷۰ برسد



الگوی بالا از ساعت ۱۲:۱۵ آغاز شده و ..... دقیقه ..... دقیقه جلومی رود تا به ساعت


می رسد.

② یک روز ۲۴ ساعت است. ۳ روز چند ساعت است ؟


۷۲       ۴۸       ۲۷       ۹۶

③ با سه رقم (۵، ۰، ۶) بیشترین عدد سه رقمی زوج می شود. ۵۶۰ درست  نادرست

④ جای خالی را کامل کن :



..... تا ..... تا می شود ..... تا ..... =  $\times$  .....



..... تا ..... تا می شود ..... تا ..... =  $\times$  .....

فارسی

۱) شاعر شعر خداوند رنگین کمان کجاست؟

۲) در کدام بیت از شعر خداوند رنگین کمان به پهبانی خداوند اشاره شده است؟

۳) معنی واژه کی زیر را بنویس:

صمیمی : اطراف : نگران :

۴) در متن زیر عطا امدادی اسمت آن را پیدا کرده و صحیح آن را بنویسید:  
من شاگرد ماحری هستم. فردا مسابقات شای دانش آموزی برگزار می شود.  
و من برای به دست آوردن بهترین رطبه به تلاش خا هم کرد

مطالعه  
اجتماعی

۱) حس نوزاد تا ۲ ماهگی به درستی کار نمی کند

۲) شناسایی هر فرد در چه مواردی کاربرد دارد؟

۳) در بیمارستان چه مشخصاتی از نوزاد ثبت می شود؟

۴) ترتیب تاریخ تولد در شناسنامه اول سال بعد روز و بعد ماه است. درست □ نادرست □

۵) نام همسر و فرزندان در شناسنامه نوشته می شود. درست □ نادرست □

علم

۱) مراحل یک تحقیق به روش دانشمندان را به ترتیب بنویسید

۲) روش علمی جمع آوری اهدیات را بنویسید. (۴ مورد)

