



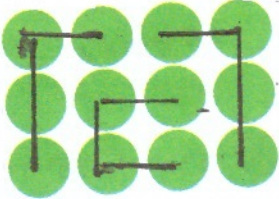
مهر ماه

به نام خداوند جان و خرد

نام :

پیک آهینه کلاسی سوم

نام خانوادگی :




۱) برای شکل روبه رو با توجه به نوع دسته بندی، جمع بنویسید :

الگوی شکل بالا ←

۲) تعداد مربع های روبه رو را، با دو نوع دسته بندی و همراه با شمارش چندتا چندتا را الگو

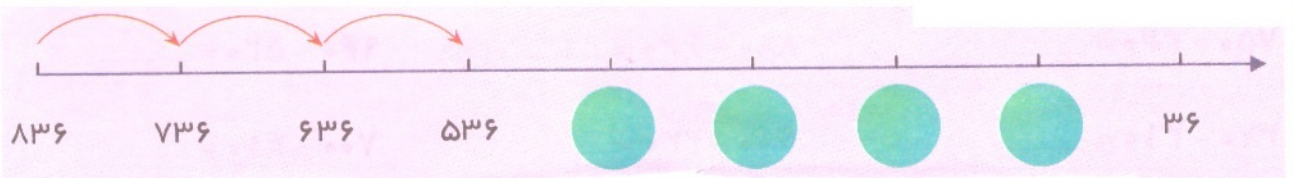
به دست آور :



دسته بندی ۱ :

دسته بندی ۲ :

۳) الگوی عددی زیر از عدد ۸۳۶ شروع و تا می شود تا به عدد ۳۶ می رسد



۴) فروشنده ای نوعی کلاه را ۳۰۰ تومان می خرد و ۳۵۰ تومان می فروشد او از فروش

هر کلاه چند تومان سود می کند؟ (با کامل کردن جدول پاسخ دهید)



• با فروش ۴ کلاه چند تومان سود می کند؟

• چند کلاه باید بفروشد تا با سود آن بتواند یک کلاه بخرد؟

تعداد کلاه	۱	۲	۳	۴	۵	۶	۷
سود							

فارسی:

۱) با هر گروه از حروف زیر، کلمه‌ی مناسب بنویس: (درس اول)

(ر، ز، ب، ا، گ، ه، ر) ← (س، م، ا، ب، ه، ق) ←

(ت، ا، ذ، ع) ← (ظ، م، ت، ع) ←

۲) مفرد کلمه‌ی زیر را بنویس:

موجودات () پسران () خفتگان () سال‌ها ()

۳) شعری در بزرگی از کتبت؟ شعرا کامل کن:

با ضده باز از من کردم شکر از او

علم:

۱) تفاوت مصاحبه با مشاهده این است که یکی شفاهی و دیگری کتبی است. درست □ نادرست □

۲) عبارت‌های مربوط به هم را به یک دیگر وصل کن:

در مورد غذای سالم با او مشورت می‌کنیم • مربی ورزش

یکی از روش‌های جمع‌آوری اطلاعات است • متخصص تغذیه

برای مرتب کردن اطلاعات از آن استفاده می‌کنیم • پرستار (۲ مورد)

جدول • پرستار (۲ مورد اضافی است)

جدول

۳) آخرین مرحله‌ی کار یک پژوهشگر چیست

۴) اولین مرحله برای شروع یک پژوهش طرح سوال است. درست □ نادرست □

۵) منابعی که برای جمع‌آوری اطلاعات مورد استفاده قرار می‌گیرند:

مطالعات
اصحاحی:

۱) از زمان تولد و بارشده تا تغییراتی در وجود را دیده است

۲) در صغری اول شناخته شده، تاریخ و محل تولد ما نوشته شده است. درست □ نادرست □

۳) پرستار گفت: «نوزاد که تا دو ماهگی درست نمی‌شوند» درست □ نادرست □

