



مهر ماه


به نام خداوند جان و خرد

نام :

نام خانوادگی :

بیک آهنگ کلاسی سوم


۱) الگوی هندسی شکل را ادامه بده و الگوی عددی آن را کامل کن :



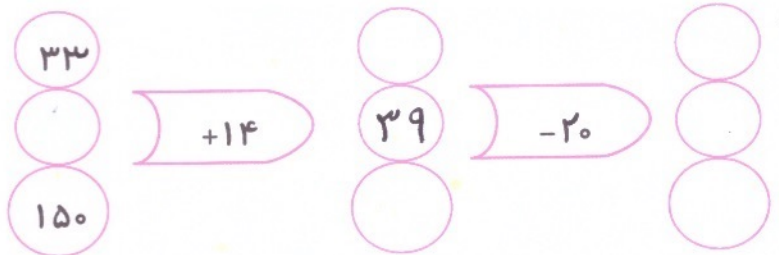
۲) اگر امروز ۳ شنبه و چهارم ماه باشد تا پایان ماه چند ۳ شنبه‌ی دیگر خواهیم داشت ؟

۵) باز شده‌ی مکعب

۴) با توجه به ماشین ورودی خروجی، جادوی خالی را کامل کن : را کامل کن



مکعب
منبع دارد



۶) یک ساختمان ۴ طبقه است. هر طبقه ۴ واحد و هر واحد ۲ اتاق خواب دارد.

با توجه به جدول زیر پریشش را پاسخ بده :

۳ طبقه چند واحد دارد ؟

۱۶ اتاق خواب تا طبقه‌ی چندم است ؟

۴ طبقه چند اتاق خواب دارد ؟

۱۲ واحد تا طبقه‌ی چندم است ؟

| | | | | |
|-----------|---|---|---|---|
| طبقه | ۱ | ۲ | ۳ | ۴ |
| واحد | ۴ | | | |
| اتاق خواب | ۸ | | | |

فیزی :

① جلد های به هم ریخته می زیر را مرتب کن :
خواهم کرد - رتبه - تلاش - بدست آوردن - برای - من - بهترین

سلامتی - است - برای - ورزش - مفید

② جلد های خالی را با کلمه های روبه رو کامل کن : (اجتماعی - آموختنی - ورزشی ، فرهنگی)
محدید مکان ، استخر یک مکان ، سینما یک مکان

③ ماشین دانه می ، یار چه چیز دیگری می افش ؟ (۵ مورد)

علوم :

① گروه های غذایی را بنویس :

② نقش گروه چربی در بدن ما چیست ؟

③ کدام یک از غذاهای زیر برای رشد بدن مفید تر است ؟ نان ، گوشت ، پرتقال

④ تخم مرغ در گروه گوشت و لبنیات (پرده نشین) قرار می گیرد . درست ؟ نادرست ؟

⑤ روغن زیتون ، روغنی مفید و حیوانی است . درست ؟ نادرست ؟

زطلعات اجتماعی :

① از زبان تولد چه تغییراتی در شما به وجود آمده است ؟ (برای هر در ۲ مثال بنویس)

تغییرات بدن :
تغییرات توانایی :

هدیه :

① یکی از بهترین وقت برای دعا کردن ، هنگام است

② $وَأَشْكُرُوا لِفِعْلِ اللَّهِ بَيْنِي$ (سوره ی نحل)

