



مهر ماه

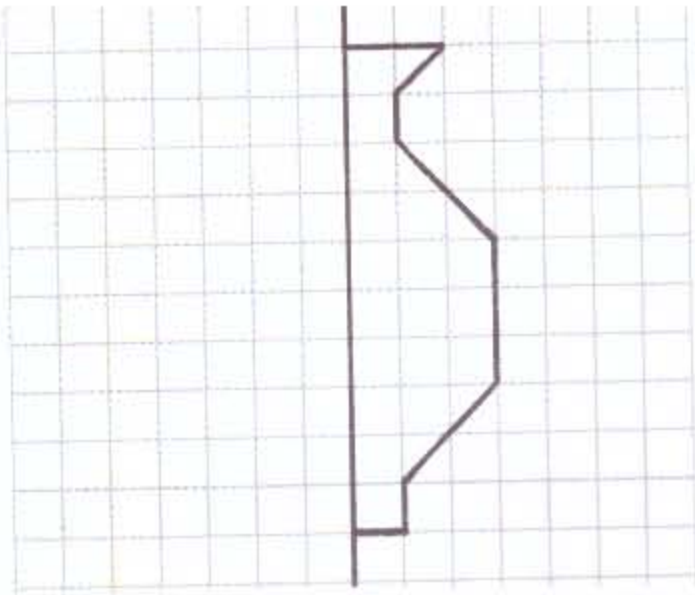
به نام خداوند جان و خرد

نام :

نام خانوادگی :

پیک آهینه کلاسی سوم

ریاضی




① نیمه‌ی دیگر کلدان را کامل کن و با توجه به خط تقارن تعداد مربع‌های آن را بشمار و رنگ بزن.

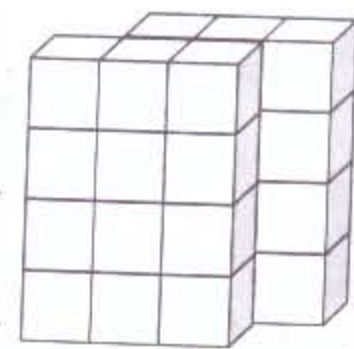
② روشنگ خانم ۳ دختر دارد که فاصله‌ی سنی

آن‌ها ۱، ۲، ۳، ۴، ۵ سال است. اگر کوچکترین فرزند ۵ ساله باشد، بزرگترین فرزند چند ساله است؟ (از الگوی عددی استفاده کنید)

④ زمان خواسته شده را بروی ساعت نشان بده



③ شکل زیر، چند مکعب دارد؟



مکعب

⑤ اگر دو شب، هفتم تیرماه باشد، تا پایان ماه تیر، چند روز دو شب داریم؟

⑥ هر مکعب از ... مربع ... درست شده که به هر طرف مکعب ... هم می‌گویند.

⑦ زنگ مدرسه‌ای ساعت ۴ بعد از ظهر می‌خورد یعنی ساعت ۱۴ ... درست ... نادرست ۵

⑧ مریم ساعت ۱۸ به حیابان می‌رود و بعد از ۳:۰۰ به خانه برمی‌گردد. مریم چه

ساعتی از بعد از ظهر به خانه برمی‌گردد؟

فارسی

۱) قصه‌ی تنگ بلور، نوشته‌ی چه کسی است؟
 ۲) نقطه‌ی متن زیر را که فراوانش شده، در جای صحیح قرار بده:
 ماران ماسری که از سب گدسه آغار شده بود، همچنان برم رنگ می بارید و ریس
 برای و ریس و ریس مناسب بود.

۳) مخالف کلمه‌ی زیر را بنویس:
 مفید () گذشته () مناسب () غروب ()

۴) جمع کلمه‌ی خاطره (خاطرات، خاطران) است.
 ۵) چه چیزی خاندی دختر کوچولی تنگ بلور را خراب کرد؟ سیل، بارشده، پرنده‌گان.

علام

۱) هم‌ماده‌ی خود را که را به گروه خودش وصل کن.
 کشک • لوبیا • آرد گندم • سیب زمینی • روغن نارام •
 چوبی • پودرین • آرد گندم • قند که رنگ و عطر


۲) بهترین وعده‌ی غذایی (شام، صبحانه) است.
 ۳) خوردن غذای خیلی شور و ... برای بدن ضرر دارد.

مطالعات اجتماعی

۱) یکی از راه‌های نشان دادن تغییرات مایه‌گذشته تا به حال و پیش بینی آینده استاره
 از ... است.

۲) علت تفاوت نوع بازی شمار در دو سالگی و حالا چیست؟
 هدیه‌ی آسمان

۱) مادر حضرت محمد (ص) و دایه‌ی ایشان نام داشت.
 ۲) جمله‌ی "من کسی را دارم که همیشه وجهه‌ی جا بمان است" کدام خصوصیت
 پیامبر را نشان می دهد؟



نظر و انصاف ولی محترم: