



آذرماه

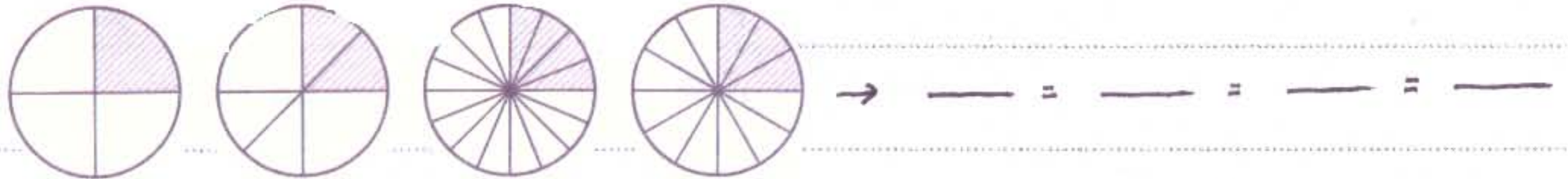
به نام خداوند جان و خرد

نام:


نام خانوادگی:

پیگ آهینه کلاسی سوم

① با توجه به شکل، کسرهای مساوی را بنویسید.



② عدد شکل را بنویس و آن نقطه را روی محور نشان بده:



③ علامت ($>$), ($=$), ($<$) بگذارید:

$\frac{3}{4} \bigcirc \frac{3}{5}$ $\frac{2}{6} \bigcirc \frac{4}{6}$ $\frac{3}{3} \bigcirc \frac{5}{5}$ $\frac{4}{8} \bigcirc \frac{3}{8}$

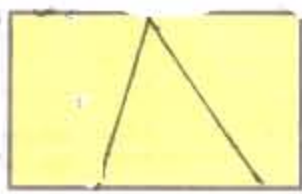
④ بهترین وسیله برای کشیدن دایره است و هر دایره شعاع دارد.

برای کشیدن دایره پرگار را به اندازه ی بازمی کنیم.

هر قطر دایره شعاع است و هر قطر دایره همان خط دایره نیز هست.

برای تشخیص گوشه (زاویه) راست از استفاده می کنیم.

⑤ شکل روبه رو چند زاویه دارد؟



بر روی شکل شخص کنید (گوشه ای راست را قرمز کنید).

⑥ تینا و شیا هر دو به یک اندازه پول هفتگی می گیرند. تینا $\frac{1}{5}$ و شیا $\frac{1}{4}$ پول خود را در هر

هفته پس انداز می کنند. تا پایان سال کدام یک بیشتر پس انداز می کنند؟ چرا؟

فارسی :

۱) کدام کلمه با بقیه تفاوت دارد؟ سردرد - سرسبز - سرما - سربلند

۲) کلمه ای در هم ریخته را مرتب کن و جمله را بنویس :

کس - پوشید - نشاسد - محولی - او - راه - لباس - تا

۳) با کلمه ی قدومه ، ۳ جمله با ۳ زمان متفاوت (گذشته ، حال ، آینده) بنویسید :

گذشته :

حال :

آینده :

۴) در هم خازاده ی کلمه ی محصول ، را بنویسید :

علم :

۱) آب در کدام خاک بیشتر نفوذ می کند؟ خاک رس - ماسه ی نرم -

۲) موردی از اتصال چند جوی کوچک به وجود می آید - درست - نادرست -

۳) برای تبدیل آب های شست سرد به آب آشامیدنی اولین مرحله اضافه کردن مواد

میکروب کش به آن است - درست - نادرست -

۴) در جاهای انزایران که رود دریاچه وجود ندارد برای کشاورزی از اسفاده

حاصلات اجتماعی :

۱) نام دیگر شجره نامه است

۲) به پدر و مادر ... کنید و چنانچه بپریشند ، با ... و ... با آن ها سخن بگوئید . (سرود ایران)

۳) با همکاری و تقسیم کاری تو اینم از انجام کار گروهی لذت ببریم - درست - نادرست -

هدیه آستان :

۱) به کارهایی که باید بنا به دستورات این انجام دهیم می گویند مثل

۲) دفتر که در ... سالگی به سن تکلیفی رسند

