



دی ماه

به نام خداوند جان و خرد

نام :

نام خانوادگی :

بیک آدینه کلاسی سوم

ریاضی




۱) شکل روبه رو را دسته بندی کنید و برای آن یک ضرب و دو تقسیم بنویسید.



\times =

\div =

۲) در شکل های زیر ضلع های موازی را با رنگ کردن مشخص کنید.



۳) محور زیر را کامل کرده و سپس برای آن تقسیم بنویسید.



۴) در کلاسی ۷ بنحیت وجود دارد که بروی هر بنحیت ۳ دانش آموز نشیند.

تعداد دانش آموزان این کلاس چند نفر است؟

۵) شیرین ۲ شکلات دارد و می خواهد آن را به طردمسادی به ۴ نفر از دوستانش

بدهد. به هر کدام از دوستان شیرین چند شکلات می رسد؟

۶) جای خالی را کامل کن: $8 \times \dots = 24$

$(4 \times 3) + (2 \times 3) = \dots + \dots = \dots \times (5 \times 4) + (6 \times 2) = \dots + \dots = \dots$

۱ متن زیر را کامل کن.

سعدی ما قرآن و احادیث سرآسمایی کامل دانست. مردم کسوف ما، ارگندسه، ماکون ما آثار سعدی آسما هسد در رسم کعبه، ار جمله های سمار و سبای او اسفاده می کنند.

۲ حکایت «حاتم طایی» از کدام شاعر بزرگ ایران است؟

۳ درست یا نادرست بودن جمله های زیر را مشخص کنید.

- سعدی اهل اصفهان بود. درست نادرست
- سعدی بعد از سی و پنج سال سفر به شیراز برگشت.
- هم معنی کلمه «خافت» نیاز است.
- ۴ ۲ کلمه ای که نقطه ای از درس نویسنده ای بزرگ بنویس.

۱ زمانی که زنگ در ب مزل را به صداد می آندی از چه نیرویی استفاده می کنی؟

کشیدن هل دادن متوقف کردن تغییر جهت دادن

۲ حرکت یک جسم نتهی دارد کردن به آن است.

۳ نیرو که در کدام جهت به اجسام وارد می شود؟ بالا پایین راست چپ همی ندارد

۱ نخ از چه چیزی می آید؟

۲ همی غذای ما از راه دامپروری به دست می آید. درست نادرست

۳ منابع طبیعی را نام ببرید (۴ مورد)

هدیه های آسمان اقامت تخمینی دره فروردین عاباید را آزاد کنیم

۴ کدام ماه راتاه مهمانی خدا می نامند؟

۵ مسلمانان بعد از خوردن سحر از ... از خوردن ... می گویند.

