



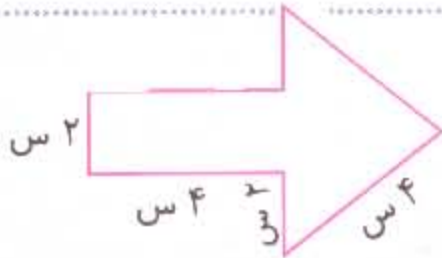
بهمن ماه

به نام خداوند جان و خرد

نام : .....

نام خانوادگی : .....

پیگ آهینه کلاسی سوم



① محیط شکل روبه رویی را بنویسید :

② هرچوب کبریت تقریباً ۳ سانتی متر است. شکل زیر با چوب کبریت ساخته شده محیط هر یک را به دست آورید. (از ضرب استفاده کنید)

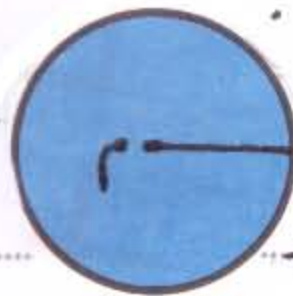
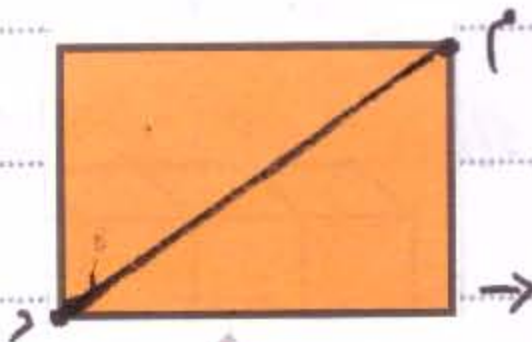


محیط :




محیط :

③ پاره خط ۴ در هر شکل چه نام دارد ؟

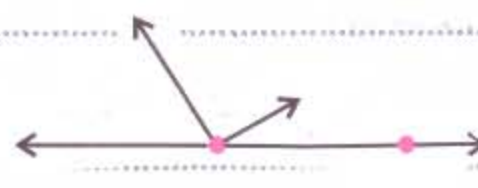


④ در هر شکل تعداد پاره خط و نیم خط را مشخص کن :



پاره خط :

نیم خط :



پاره خط :

نیم خط :



⑤ شکل زیر از چه پاره خط های تشکیل شده ، آن را بنویس :

پاره خط ۴ : دور شکل

⑥ به ضلع بزرگ مستطیل ..... یا ..... و به ضلع کوچک آن ..... یا ..... هر ۴ ضلع ..... قطر و هر ۵ ضلع ..... قطر دارد .

⑦ در یک مسابقه ی ورزشی ، دانش آموزان دو دور ، دوریک سالن ورزشی به طول ۵ متر و عرض ۳ متر را دویدند. آن ها چندتر دویدند ؟

① در هر گروه، کدام کلمه با بقیه متفاوت است؟

- |          |         |              |         |
|----------|---------|--------------|---------|
| نقدان ○  | نقدان ○ | نقدان ○      | نقدان ○ |
| حافظ ○   | مولوی ○ | بوعلی سینا ○ | سعدی ○  |
| درختان ○ | مردان ○ | ایران ○      | زنان ○  |

② در متن زیر چند کلمه نادرست نوشته شده است؟ آن را پیدا کن و درست آن را بنویس:  
یکی برخاست و گفت: «به ترمه، همه ی کسانی که در مناطق مرزی میهن زنده گی می کنند نگهبان اصلی وطن هستند.»

③ شاعر شعزیر ..... است. آن را کامل کن:

کار ما ..... است و ..... درس همه از ..... گریز اینیم

چون نیاکان ..... راست گوی و .....

④ گاهی برای بیان عواطف و احساسات از نوشته های زیبایی که اغلب دارای آهنگ است استفاده می شود که به آن ..... می گویند و خواندن آن به روح انسان ..... می دهد.

① سا حرم که، هر چه جسم به تکیه گاه نزدیک تر باشد نیروی ..... در کم تر یک ششتری) برای به حرکت در آوردن و بلند کردن آن لازم است.

② هر چه جسم شیب تر باشد، وزن آن را با نیروی ..... به طرف خود می کشد.

③ اگر دو قطب هم نام آهن را با هم نزدیک کنیم، همدیگر را ..... می کشند.

④ معمولاً نقشه های خانه را مهندس ساختمان می کشد. درست ○ نادرست ○

⑤ معمولاً نزدیک ترین قسمت خانه های امروزی ..... و کوچک ترین قسمت ..... است.

⑥ بنا و کارگران، ..... و ..... را می سازند. لوله های آب

را از زیر زمین عبوری دهد و ..... سیم کشی می کند و برق را به همه ی مکان های مورد

