



بهمن ماه

به نام خداوند جان و خرد


نام : .....

نام خانوادگی : .....

پیک آهنگه کلاسی سوم

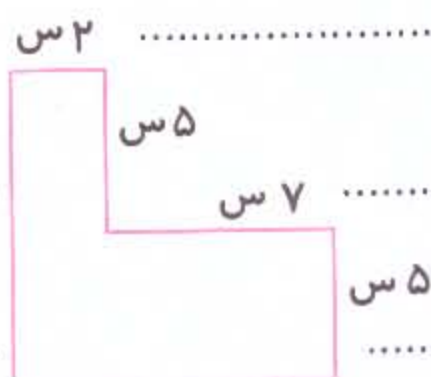
ریاضی

۱) در شکل روبه رو مساحت قسمت رنگ شده



چند سانتی متر مربع است ؟

۲) مساحت و محیط شکل روبه رو را می سبب کنید



مساحت :

محیط :

۳) محیط مربعی ۳۶ سانتی متر است. مساحت این مربع چند سانتی متر مربع است ؟

الف) ۲۴ ○ ب) ۳۶ ○ ج) ۸۱ ○ د) ۶۴ ○

۴) سطح مستطیل را با ۲۴ مربع یک سانتی متری (هر ضلع) پوشانده ایم اگر در طول این مستطیل ۴ مربع جا بگیرد، در عرض آن چند مربع جا می گیرد ؟

۵) مجموع طول و عرض مستطیل ۱۰ سانتی متر است. محیط این مستطیل چند سانتی متر است ؟


۶) ایم با یک سیم به طول ۲۰ سانتی متر یک مربع درست کرد. طول هر ضلع این مربع چند سانتی متر است ؟



- ① شاعر شعر دریا کیست ؟
- ② با توجه به متن درس ، جایی خالی را کامل کن :  
می شدم شاد روی زخم ..... مثل ..... میان آب ..... آسمان ..... دریا .....
- ③ از درس با تزددم (دریا) کلمه ای خواسته شده را پیدا کن و بنویس :  
کلمه ی ۱ نقطه ای ( ..... ) کلمه ی ۲ نقطه ای ( ..... ) کلمه ی ۳ نقطه ای ( ..... ) کلمه ی ۴ نقطه ای ( ..... )
- ④ کدام کلمه با بقیه تفاوت دارد ؟

|          |           |          |           |
|----------|-----------|----------|-----------|
| سر بند ○ | سرمه ○    | سر زده ○ | سر حال ○  |
| پیرانه ○ | دخترانه ○ | بهانه ○  | مادرانه ○ |
| مدرس ○   | دکس ○     | سرد ○    | مدتس ○    |

- ① هر کدام ، به کدام گروه از گیاهان گلدار ، تعلق دارد ؟



- ② بعضی از گیاهان رانه دار مانند ..... ، به جای گل و ..... ، مخروط دارند . به این گیاهان ..... می گویند و برگ رخت کاج ..... است .

سطح درسی اجتماعی

- ① در مدرسه چه مکان های وجود دارد ؟ ۴ مورد

- ② مدرسه بهم مانند خانه ..... دارد .

هدیه از آسمان

- ① ام ابیها لقب حضرت ..... بود و معنی آن ..... می باشد .
- ② تبیات حضرت زهرا ..... مرتبه ..... و ۳۳ مرتبه ..... مرتبه ..... است .

