



اسفند ماه

به نام خداوند جان و خرد

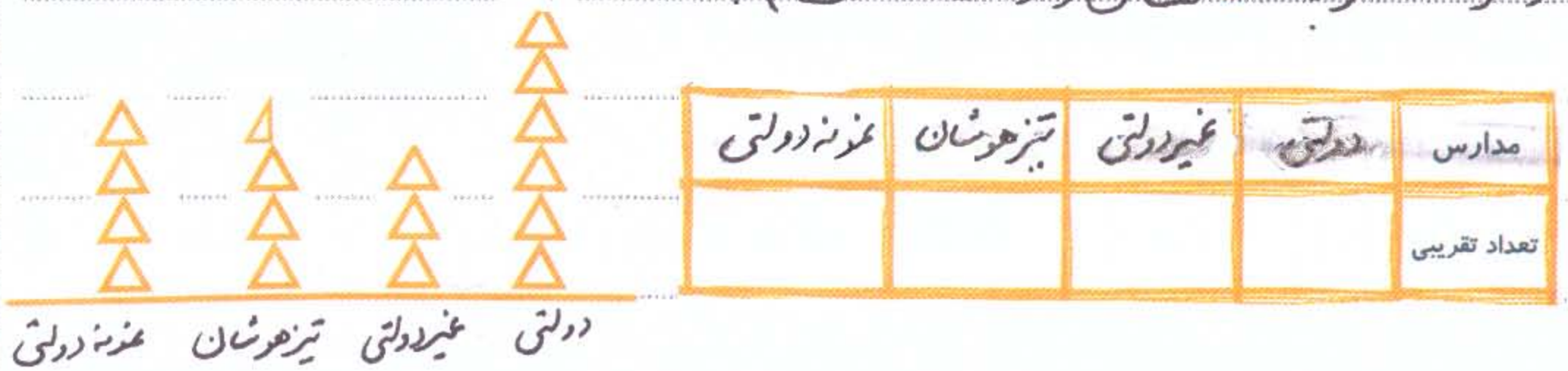
نام :

نام خانوادگی :

پیگ آویند کلاس سوم

ریاضی

۱) جایی خالی را در جدول با توجه به نمودار تصویری کامل کن و تعداد دانش آموزان هر دسته را بنویس.
(هر Δ نشان داده شده است)



۲) با توجه به اطلاعات و داده های جدول نمودار دایره ای زیر را رنگ کنید.

شنا : آبی
فوتبال : قرمز
والیبال : زرد



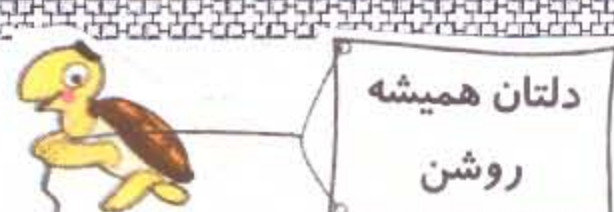
ورزش	علاقه مند
شنا	۲۵
فوتبال	۵
والیبال	۱۵

تعداد علاقه مندان
به ورزش ؟ در کلاس
سوم

۳) در نمودار دایره ای بالا هر قسمت نشان دهنده ی چند نفر است ؟

- ۳) مجموع طول و عرض مستطیلی ۱۰ سانتی متر است محیط آن ... سانتی متر است .
- ۴) مساحت مربعی که هر ضلع آن ۶ سانتی متر است ... سانتی متر مربع است .
- ۵) محیط ۱۱ ضلعی منتظم که هر ضلع آن ۱۰ سانتی متر است ... است .
- ۶) ساعت ۱۰ یعنی ساعت ... بعد از ظهر .

- ۷) شکل روبه رو ، دو خط ... راستان می دهد .
- ۸) شکل روبه رو ، پاره خط و ... نیم خط دارد .



فدایی

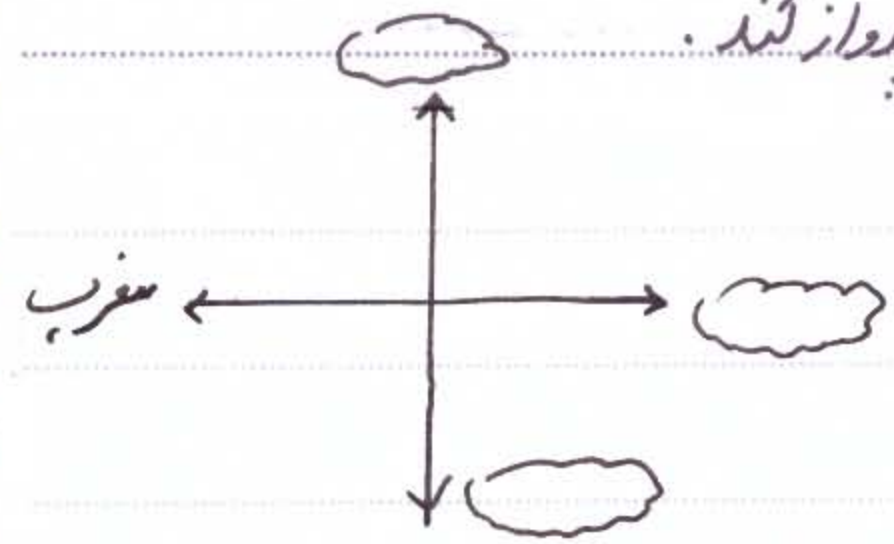
- ① برای هر کدام از کلمه های زیر، کلمه های هم خانواده بنویس .
 دقیقه (.....) مناطق (.....) حضور (.....) شجاعانه (.....)
- ② کدام یک از کلمه های زیر برای تداوم هم با « دان » و « پیم بازار » ترکیب کرد؟
 نمک ، گل ، نخل ، شن ، بخی ، شمع ، لاله ، خاک .
- ③ هر واژه را به معنای خودش وصل کن .
 اتحاد ○ شجاعانه ○ پیاد ○ دفاع ○ کنار آسمان ○
 دلاورانه ○ یکی شدن ○ افق ○ گسترده ○ محافظت ○
- ④ من دارم اما غار دانه دارم .
 صندلی دارد اما من پارام .

علوم

- ① بدن پستانداران از چشم یا پوشیده شده است .
- ② از بزرگترین پرندگان است که نمی تواند پرواز کند .
- ③ خزندگان با تنفس می کنند .
- ④ وال است که با نفس می کشند و همین خاطر مرتب به سطح آب می آید .
- ⑤ از بزرگترین پرندگان است که نمی تواند پرواز کند .

مطالعات اجتماعی

- ① جهت های اصلی را در شکل روبرو کامل کرده و بنویسید .
- ② چه کسانی برای خانه های پلاک نصب می کنند؟
- ③ نام ضیایان و کوچه و شماره های خانه ، آن خانه است .



اهدیه های آسمان

① این سخن از کس است؟ به شما فرزندانم سفارش می کنم مراقب رفتار تان باشید و نظم را در کاره تان رعایت کنید .



همیشه شاداب باشید.