



مهر ماه

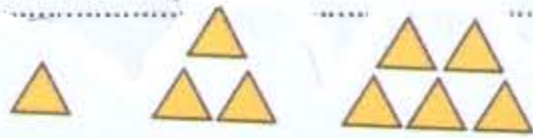
به نام خداوند جان و خرد

نام : .....

نام خانوادگی : .....

پیک آهینه کلاسی سوم

دوره کی ریاضی . (فصل ۱)




① شکل و الگوی عددی را ادامه بده و جمله را کامل کن

شکل ۴ تا ..... تا ..... تا اضافه شده است

عدد ۴ تا ..... تا ..... تا اضافه شده است ۱۶۲ - ۱۷۲ - ۱۸۲ - ۱۹۲

② شکل مقابل را به دو صورت دسته بندی کن و برای آن جمع و الگو بنویس



جمع  
الگو:

جمع  
الگو:

③ باز شده ی شکل مقابل را بکش و نام آن را بنویس

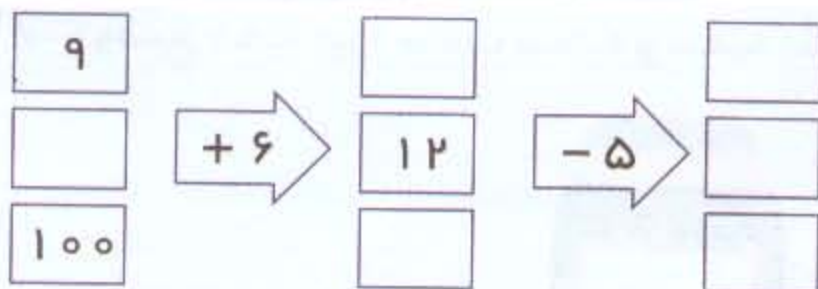


این شکل چند ضلع دارد؟

باز شده ی شکل

این شکل چند گوشه دارد؟

④ با توجه به کاری که هر ماشین انجام می دهد جایی خالی را کامل کن



۱۲	⇒ +۱۰ و -۴	⇒	؟
----	------------	---	---

⑤ کتاب ساعت ۱۰ و نیم صبح از خانه خارج شد و بعد از پنج ساعت در برج به

خانه برگشت. او چه ساعتی از بعد از ظهر به خانه برگشت؟



۶ جدول زیر را کامل کن

ساعت قبل از ظهر		۳:۱۵	۱۰:۳۰			8:20
ساعت بعد از ظهر	۱۸:۱۰			۱۶:۴۵	چهارده و نیم	

۷ ساختمان سینما ۵ طبقه دارد و هر طبقه ۴ واحد، با کامل کردن جدول پاسخ دهید

طبقه									
واحد									

\* ۳ طبقه چند واحد دارد؟

\* ۱ طبقه چند واحد دارد؟

\* چه رابطه‌ای بین تعداد واحدها در طبقات وجود دارد؟

۸ امروز ۵شنبه و ۲۴ مهر ماه است. ۵شنبه‌ای دیگر مهر ماه، چندم این ماه بوده‌اند؟

اولین پنج‌شنبه مهر ماه چندم مهر است؟

۹ مغازه‌داری نوعی بستنی را ۲۰۰ تومان می‌خرد و ۲۲۵ تومان می‌فروشد. با کامل کردن جدول پاسخ دهید:

تعداد	۱	۲	۳	۴	۵	۶	۷	۸	۹
سود									

۱۰ با فروش ۵ بستنی چند تومان سود می‌کند؟

چند بستنی بفروشد تا با سود آن یک بستنی بخرد؟

۱۱ خط‌های تعدادی را رسم کنید



موفق باشید.





مهر ماه

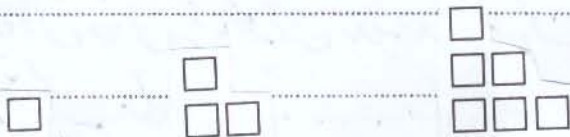
به نام خداوند جان و خرد

نام : .....

نام خانوادگی : .....

پیگ آدینه کلاسی سوم

۱) الگوی هندسی شکل را ادامه بده و الگوی عددی آن را کامل کن :



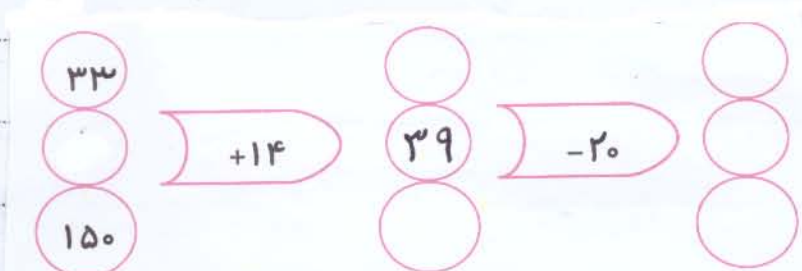
۲) اگر امروز ۳ شنبه و چهارم ماه باشد تا پایان ماه چند ۳ شنبه‌ی دیگر خواهیم داشت؟

۳) باز شده‌ی مکعب



مکعب  
ضلع دارد

۴) با توجه به ماشین ورودی خروجی، جادوی خانی را کامل کن :



۵) یک ساختمان ۴ طبقه است. هر طبقه ۴ واحد و هر واحد ۲ اتاق خواب دارد.

با توجه به جدول زیر پریشش را پاسخ بده :

۳ طبقه چند واحد دارد؟

۱۶ اتاق خواب تا طبقه‌ی چندم است؟

۴ طبقه چند اتاق خواب دارد؟

۱۲ واحد تا طبقه‌ی چندم است؟

طبقه	۱	۲	۳	۴
واحد	۴			
اتاق خواب	۸			



فارسی :

① جمله های به هم ریخته ی زیر را مرتب کن :  
خواهم کرد - رشته - تلاش - به دست آوردن - برای - من - بهترین

سلامتی - است - برای - ورزش - مفید .

② جملی را با کلمه های روبرو کامل کن : ( اجتماعی - آموختنی - ورزشی ، فرهنگی )  
محدید مکان ..... ، استخر یک مکان ..... و سینما یک مکان ..... است

③ با شنیدن واژه های ، خانه ، یار چه چیزهایی می افش ؟ ( ۵ مورد )

علوم :

① گروه های غذایی را بنویس .

② نقش گروه چربی در بدن ما چیست ؟

③ کدام یک از غذا که برای رشد بدن مفیدتر است ؟ نان ○ گوشت ○ برتقال ○

④ تخم مرغ در گروه گوشت و لبنیات ( پروتئین ) قرار می گیرد . درست ○ نادرست ○

⑤ روغن زیتون ، روغنی مفید و حیوانی است . درست ○ نادرست ○

نظریات اجتماعی :

① کدام موارد مربوط به تفاوت های شکل و قیامت است ؟

زنگ چشم ○ خواندن قرآن ○ کشیدن نقاشی ○ دندان های محکم ○

② خداوند ما را با این ..... و ..... آفریده است .

③ خانواده چگونه به وجود می آید ؟

اهدیه های آسمان : ① نام پدر حضرت محمد (ص) ..... نام مادر ..... نام دایه .....

② چهار حضرت محمد (ص) را بنویسید :



نیت

اصناف اولی قسم