



آبان ماه

به نام خداوند جان و خرد



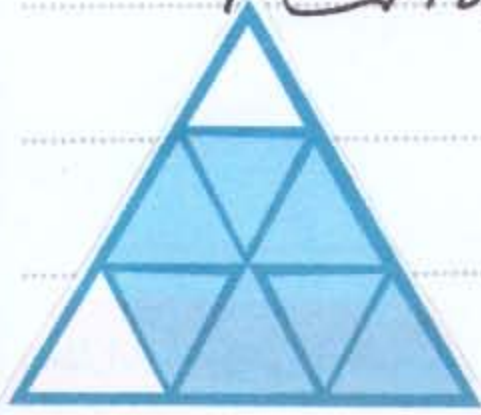
پیک آدینه کلاس سوم

نام : .....

نام خانوادگی : .....



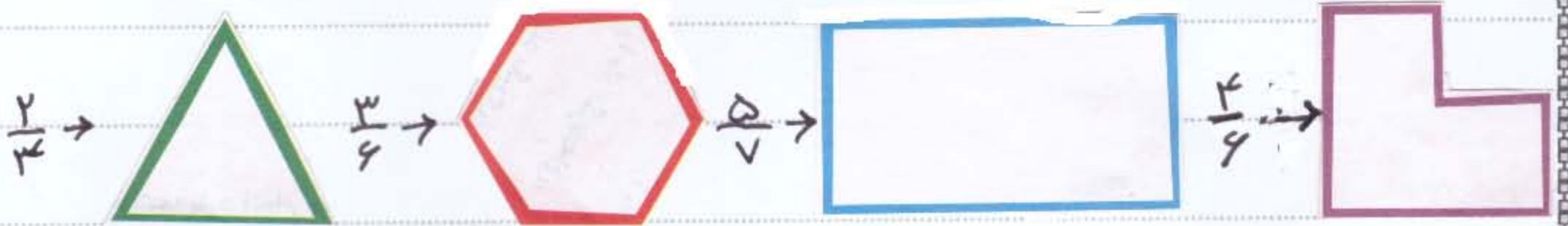
① چه کسری از شکل های زیر رنگ شده و چه کسری رنگ نشده است ؟



رنگ شده

رنگ نشده

② هر کدام از شکل های زیر را به اندازه ی کسر خواسته شده ، رنگ کنید .



③ حساب سه هزار و هفتصد ریال و تینا چهارصد و پنجاه تومان پس انداز کرده اند.

کدام یک پول بیشتری پس انداز کرده اند ؟

چند تومان بیشتر ؟

④ به پرستش های زیر پاسخ دهید :

• ۱۰۰۰ تا چند تا ه اتایی است ؟ ..... ۵ سانتی متر ..... میلی متر است

• ۳ کیلو ترو ۵۰ متر چند متر است ؟ ..... ۸۵۷ ریال ..... تومان و ..... ریال است

⑤ شیما در سال ۱۳۸۵ به دنیا آمده او اکنون چند ساله است ؟ ..... سال

⑥ \* ساعتی که خواب است و کار نمی کند در شبانه روز چند بار وقت صحیح را نشان می دهد ؟ .....



۱) جلدی زیر باده طکه ای کامل می شود. این اکنون تکلیف روز جمعه ام را تمام

می کنیم ○ کردم ○ خواهم کرد ○ کرده بودم ○

۲) کدام یک از گزینه های زیر بهم خانواده ی طکه ی حکم نیت؟ حکم ○ حکمت ○ حکیم ○

۳) فعل های زیر را به زبان حال برگردان:

گفتم ( ) رفت ( ) نوشتم ( ) رفتم ( )

۴) کدام یک از دسته طکه های زیر از یک خانواده هستند؟

بیمار، بسیار، بس ○ توانش، توانا، دانایی ○ آزرده، آزار، بازار ○ بخشدن، بخشش، بخشه ○

۵) مرتب کن: «ما - انسان های بزرگ - این - و به - می گذاریم - احترام - دوست داشتن»

۱) ابرو چگونه حرکت می کنند؟

۲) تمام آب های گره ی زمین در سطح زمین وجود دارند. درست ○ نادرست ○

۳) تبخیر آب در طبیعت به چه عواملی وابسته است؟

نور خورشید ○ باد ○ رطوبت ○ نور خورشید و باد ○

۴) برای آتش بیند، کث وزری و صفت از چه آبی استفاده می کنیم؟

۱) به تقسیم کار و همکاری می توانیم از کار گروه لذت ببریم. درست ○ نادرست ○

۲) اگر یک نفر به تنهایی تمام کار را انجام دهد، چه مشکلی پیش می آید؟

۱) نام مادر حضرت زینب (س) ..... و نام پدر ایشان ..... است

۲) حضرت زینب (س) به زنان شهر ..... قرآن آموختن می داد

