



آذرماه


به نام خداوند جان و خرد

نام : .....

نام خانوادگی : .....

پیگ آهینه کلاسی سوم

ریاضی



۱) در شکل روبه رو زاویه های راست را مشخص کنید.

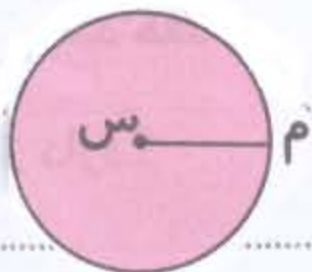
• با توجه به شکل درست یا نادرست بودن جمله را مشخص کنید

• مربع ۴ زاویه ی راست دارد. ۰

• مستطیل ۴ زاویه ی راست دارد. ۰

• مثلث ۳ زاویه ی راست دارد. ۰

۲) در دایره ی روبه رو، پاره خط  $MS$  چه نام دارد؟



• هر دایره چند مرکز دارد؟

• هر دایره چند شعاع دارد؟

• اگر بخواهیم دایره ای با رنگارنگ رسم کنیم، نوک سوزن پرگار مرکز دایره است یا نوک مداد؟

• آیا می توان چند دایره با یک مرکز داشت؟


• اگر شعاع دایره ۲ سانتی متر باشد قطر آن چند سانتی متر است؟

۳) فصل پانزدهم کسری از سال است؟

• ماه مهر چه کسری از فصل پانزدهم است؟

• ماه آذر چه کسری از ماه های سال است؟

۴) دو شکل روبه رو ۲ قسمت را رنگ کنید.



• چه کسری از شکل رنگ شده است؟

• ۲ کسر مساوی با قسمت رنگ نشده بنویسید و روی

شکل نشان دهید.



فارسی: ① کدام کلمه زمان گذشته را نشان نمی دهد؟

- افتاد ○ می رود ○ می خواست ○ خوابید ○

② عدالت مناسبی در کنار هر یک از موارد زیر بگذار: (س، ع، ص)

حضرت زینب (.....) امام جواد (.....) حضرت فاطمه (.....)

③ نشانی (ص) بعد از نام پیامبر به معنای صلوات است. درست ○ نادرست ○

④ شعر لفظی سبز دعا سروده کیست؟ آن را کامل کن.

ابر در ..... آسمان، بر سر ..... قوت

⑤ جدی زیر باره زمان خواسته شده برگردان.

من هفتدی آینده به بس قوت خواهم رفت (حال)

علوم:

① اجسامی را که از خود نور تولیدی کنند را می نامند.

② ما ..... نوع آینه داریم، آینهی ..... و فرودرشته و .....

③ در کدام یک، بازتابش نور به صورت نامنظم است؟



④ برای دیدن یک جسم به ..... نیاز داریم.

مطالعات اجتماعی: ① نیازهای افراد خانواده چیست؟

② بعضی از زنان شهری علاوه بر کار در خانه در .....

..... کاری کنند.

حدیه های آسمان:

① در رکعت سوم و چهارم نماز چه زکری را می خوانیم؟

② مادر شبانه روز ..... نسبت و ..... رکعت نماز می خوانیم.

