



دی ماه

به نام خداوند جان و خرد

نام:

نام خانوادگی:

پیگ آدینه کلاسی سوم

ریاضی

① عدد ۳۹۰۴ را به حروف بنویسید.

| | | | |
|------|-------|-------|---------|
| یکان | دهگان | صدگان | هزارگان |
| | | | |

• در جدول ارزش مکانی عدد ۳۹۰۴ قرار دهید.


• ارزش کدام رقم کم تر است؟

• عدد ۳۹۰۴ را به صورت گسترده بنویسید.



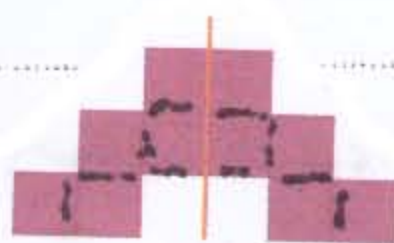
② ۴۰۰ ی خالی با کامل کن:

| توضیح عبارت ضرب | ضرب | جمع | مستطیل |
|-----------------------------------|--------------|-----------------|--------|
| دسته‌ی ... تایی می‌شود..... | 3×5 | | |
| دسته‌ی ... تایی می‌شود..... | | $7 + 7 + 7 + 7$ | |

③ جای خالی را با عدد مناسب و شکل؟ را با رنگ کردن کامل کنید:



④ با توجه به خط‌تعدادن تعداد مربع‌ها را پیدا کرده و عبارت ضرب بنویسید:



⑤ مهتاب روزی ۹ صفحه کتاب می‌خواند. خواهرش ۳ برابر او مطالعه می‌کند.

خواهر مهتاب روزی چند صفحه مطالعه می‌کند؟

⑥ درست یا نادرست بودن جمله‌های زیر را مشخص کنید.

بیرونی کشوری ۳۰۰۰ تومان ایران است، ۳ بیرونی
این کشور ۶ هزار تومان است.

درست نادرست

حاصل ضرب هر عدد در ۱، برابر است با یک.

درست نادرست

بهترین وسیله برای تشخیص گروشی راست، گونیاست.

درست نادرست

⑦ جاهای خالی را کامل کن:

$$4 \times 2 = \dots \times \dots$$

$$7 \times 3 = (5 \times 3) + (\dots \times 3)$$

$$(5 \times 8) + (2 \times 8) = \dots \times \dots$$

$$5 \times \dots = 15$$

$$(4 \times 3) - (2 \times 1) = \dots - \dots = \dots$$

۱۴۸ سانتی متر یعنی ... متر ... سانتی متر یا ... متر ... متر

$\frac{50}{100}$ متر یعنی ... سانتی متر . ۷۰۱ گرم می شود ... کیلوگرم و ... گرم

⑧ اگر در زیر را کامل کن:

۷۴۰۰ - ۸۴۰۰ - ۹۴۰۰

۲۰۰۰ - ۲۵۰۰ - ۳۰۰۰

⑨ عددی داخل مستطیل به کدام عدد نزدیکتر است؟

۲۰۰۰ ← ۲۲۵۰ → ۳۰۰۰ ۲ ← $\frac{2}{3}$ واحد بعد از عدد ۲ → ۳ ۶۰۰۰ ← ۶۸۳۰ → ۷۰۰۰

⑩ اتوبوس ساعت ۸:۳۰ صبح از تهران حرکت کرده و بعد از ۱ ساعت در ربع

به شیراز می رسد. این اتوبوس چند بعد از ظهر به شیراز می رسد؟

⑪ در شقایق ۱۴ میوه است. اگر ۷ تایی آن کبیب و ۵ تا برتقال و بقیه نانه می باشد.

چه کسری از میوه کبیب است؟ چه کسری از میوه نانه می است؟

علامت (< = >) بگذارید. ۲۰ میلی متر ۲۰ سانتی متر $\frac{1}{5} > \frac{1}{6}$ $\frac{3}{4} > \frac{2}{4}$ $\frac{3}{7} > 1$

