



بهمن ماه

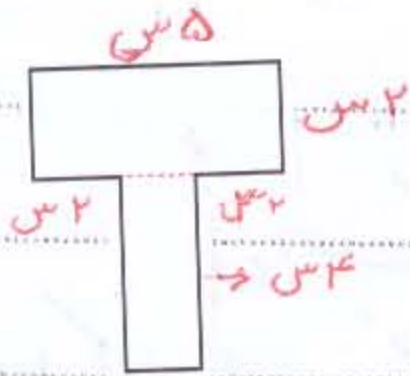
به نام خداوند جان و خرد

نام :

نام خانوادگی :

پیکی آهینه کلاسی سوم

ریاضی



① مساحت و محیط شکل روبه رو را به دست آورید :

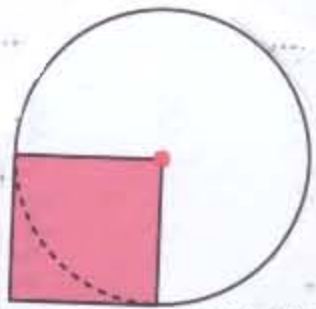
محیط :

مساحت :

② اگر شعاع دایره ۳ سانتی متر باشد، مساحت و محیط قسمت رنگ شده را به دست آورید :

محیط :

مساحت :

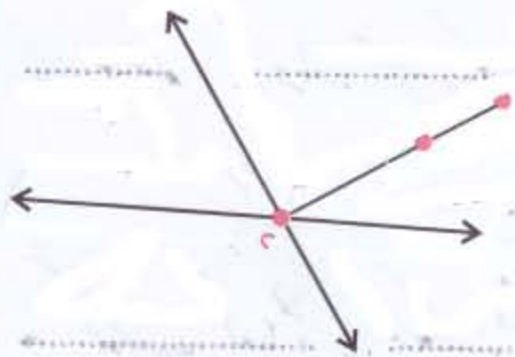


③ با توجه به شکل، تعداد خط راست، پاره خط و نیم خط را مشخص کن و نام ببر.

۳ خط راست :

پاره خط :

نیم خط :



④ مساحت مستطیلی ۱۶ سانتی متر مربع است اگر طول آن ۸ سانتی متر باشد. عرض آن چند سانتی متر است ؟

⑤ محیط مربعی ۱۲ سانتی متر است. مساحت آن چه قدر است ؟

(راه حل را بنویسید و اول ضلع را حساب کنید)

⑥ شیا ۳ تومان پول دارد می تواند با آن ۵ چوب زنجی بخرد. اگر خواهد ۹ چوب

بخرد چه قدر پول باید داشته باشد ؟

۱ جدای خانی را با کلمه ای مناسب کامل کن :

..... ، زبان قلی ما ایرانیان است و برای حفظ بسیار با اهمیت است
 همدی کسانی که در مرزی زندگی می کنند ، نگهبان وطن هستند

۲ با حرف بهم ریخته کلمه ای مناسب بنویس :

ذرت ل (.....) ص ر ج ی (.....) ا ب خ ر ب ت ی (.....)

۳ کس است که می گیرد و عکاسی محل کار او است

حیاط کس است که می دزدد و محل کار او است

از ضلایان شهید میهن اسلامی ما هستند

به مجموعه ای چیزهای با ارزشش گنجینه می گویند . درست نادرست

درست و نادرست بودن جدای زیر را مشخص کنید

• پوست دانه ای یک قسمتی زودتر جدای شود . درست نادرست

• رشته ای دانه ای دو قسمتی ، راست است . درست نادرست

• برگ گیاهان یک قسمتی بزرگ و نازک است . درست نادرست

• تعداد کل برگ های من ۳۵ است پس من گیاه

دو قسمتی هستم . درست نادرست

۱ نقوشی خانه را چه کسی می کشد؟ (مطالعات اجتماعی)

۲ در خانه ای قدیمی آب را در ذخیره می کردند؟

۳ در سخن خانه کارگران و بناها و خانه را می سازند

۱ نام امام چهارم ما است که به سجاد یعنی

زین العابدین یعنی نیز معروف هستند

۲ کتاب دعا ای حضرت سجاد صیغی نام دارد و ایشان در قبرستان بخاک سپردند

