



اردیبهشت ماه

به نام خداوند جان و خرد

نام : .....

نام خانوادگی : .....

پیگ آهینه کلاسی سوم



① در یک تولیدی کلاه، یک کارگر هر روز ۱۶ عدد کلاه می‌دوزد. کارگر دوم نصف کارگر اول کلاه می‌دوزد. این دو کارگر در یک هفته چند کلاه می‌دوزند؟  
ریاضت‌ن راه حل ۱.

② با توجه به احتمالات، جلدی هر یک از جمله‌های زیر یکی از جمله‌های «عنااتفاق می‌افتد، امکان دارد اتفاق بیفتد، غیر ممکن است اتفاق بیفتد»، را بنویس.  
• یک سنگ، گو ساله به دنیا بیاورد.  
• یک تخم مرغ، ۲ تا زرده داشته باشد.  
• بعد از فصل بهار، فصل تابستان بیاید.

③ ساعت شروع کار یک آموزشگاه ۱۰:۳۰ صبح است. اگر مدت فعالیت این آموزشگاه ۴ ساعت و ۳۰ دقیقه باشد، ساعت پایان کار آن چه ساعتی است؟

④ اگر رقم‌های بیشترین عدد ۴ رقمی غیر تکراری را در هم ضرب کنیم، چه عددی به دست می‌آید؟

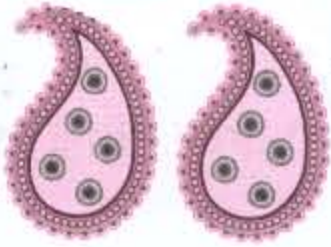
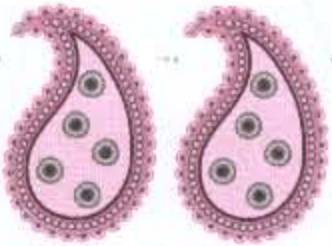
• با رقم بنویس.

• با حرف بنویس.

• در این عدد کدام رقم بیشترین ارزش مکانی را دارد؟

- ⑤ در نماز جماعت مدرسه ای ۵۰ نفر شرکت کرده اند. در هر صف نماز ۸ نفر می ایستند. چند صف درست شده؟  
چند نفر باقی مانده اند؟

⑥ برای شکل روبه رو، یک جمع دیک ضرب و یک تقسیم بنویس و تقسیم را روی محور نشان

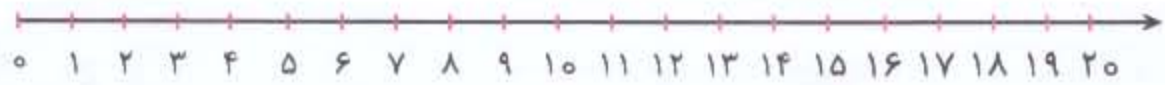


→ جمع

→ ضرب

→ تقسیم

بده:



⑦ جاهای خالی را کامل کنید.

- حاصل عبارت  $41 \times 58$  به طور تقریبی ..... است.
- مساحت مربعی  $36$  سانتی متر مربع است، پس هر ضلع آن مربع ..... سانتی متر و محیط آن ..... سانتی متر است.
- قطر یک  $5$  ضلعی .....، شش ضلعی ..... و  $7$  ضلعی ..... است.
- $650$  ریال ..... سکه  $5$  ریالی است.
- در الگوی شمارش  $1$  تا  $1$  عدد  $40$ ، ..... بعد است. (چندین عدد)

⑧ ضرب و تقسیم کنید:

$$\begin{array}{r} 3650 \\ \times 20 \\ \hline \end{array}$$

فرایندی

$$\begin{array}{r} 405 \\ \times 3 \\ \hline \end{array}$$

$$\begin{array}{r} 40 \overline{) 7} \\ \hline \end{array}$$

$$\begin{array}{r} 10 \overline{) 9} \\ \hline \end{array}$$

