



مهر ماه

به نام خداوند جان و خرد


نام: .....

نام خانوادگی: .....

پیگ آهپنه کلاسی سوم

۴) باز شده ی مکعب را کامل کن

کن:



۱) با توجه به ماشین ورودی و خروجی، کامل کن

۳۳			
	+۱۴	۳۹	-۲۰
۱۵۰			

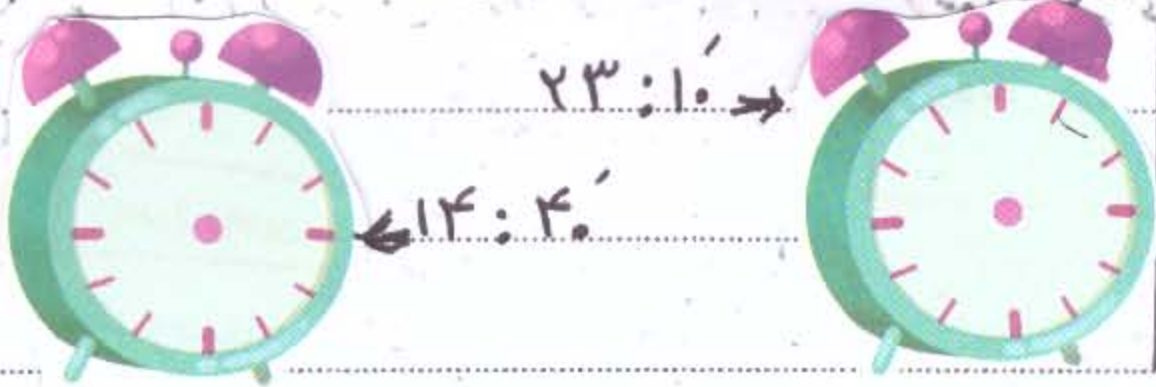
۳) با توجه به جدول پاسخ بنده، (مجدد جدول را کامل کن)

طبقه	۱	۲	۳	۴
واحد	۴			
اتاق خواب	۸			

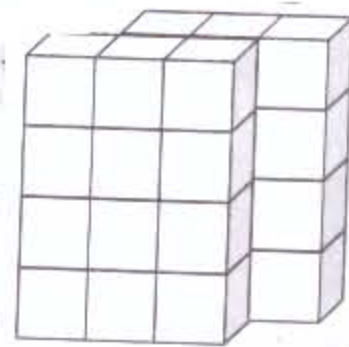
• در ۳ طبقه چند واحد وجود دارد؟

• چند طبقه با هم ۲۴ اتاق خواب دارند؟

۴) زمین خواسته شده را بر روی ساعت نشان بده



۳) شکل زیر، چند مکعب دارد؟



مکعب

۵) اگر دو شب، هر دو تیر ماه باشد، تا پایان ماه تیر، چند روز دو شب داریم؟

۶) هر مکعب از مربع درست شده و هر مکعب گوشه و ضلع دارد.

۷) زنگ مدرسه ای ساعت ۴ بعد از ظهر می خورد یعنی ساعت ۱۴. درست است یا درست است؟

۸) مریم ساعت ۱۸ به حیابان می رود و بعد از ۳:۰۰ به خانه برمی گردد. مریم چه

ساعتی از بعد از ظهر به خانه برمی گردد؟ (۲ صحت)

عاری

۱) قصه تنگ بود، نوشته‌ی چه کسی است؟

۲) لفظ کدی متن زیر را که فراوانش شده، در جای صحیح قرار بده:

ما را آن ماسری که از سب گذشته آغار شده بود، همچنان رسم رنگ می بارد و رسم برای در رسم و رسم مناسب بود.

۳) مخالف کدی زیر را بنویس:

مفید ( گذشته ) مناسب ( غروب )

۴) جمع کدی خاطره ( خاطرات ، خاطران ) است.

۵) چه چیزی خاندی دختر کدی تنگ بود را خراب کرد؟ سیل ، باد تند ، پرنده گان

علوم

۱) گروه پروتئین ( گوشت ) چه کاری در بدن انجام می دهند؟

۲) هر ماده‌ی خوراکی را به گروه خودش وصل کن

کشتک ، لوبیا ، آرد گندم ، سیب زمینی ، روغن مازام ، چوبی ، پروتئین ( گوشت ) ، قند که زبان می خورد

۳) بهترین وعده‌ی غذایی ( شام ) صبیانه است.

۴) خوردن غذای خیلی شور و ... برای بدن ضرر دارد.

مطالعات اجتماعی

۱) وقتی رشد می کنیم ۳ تغییر در ما اتفاق می افتد تفسیر در ...

۲) یکی از راه‌های نشان دادن تغییرات ما از گذشته تا به حال و پیش بینی آینده استفاده از ... است.


۲) علت تفاوت نوع بازی شما در دو سالگی و حال در چیست؟

هدیه که از آسمان ...

۱) نام پدر حضرت محمد (ص) ، مادرشان ، و دایه‌شان ... بود.

۲) فاطمه فیز حایظ ، یعنی خداوند بهترین نگه دارنده است . درست ؟ نادرست ؟

۳) حضرت محمد (ص) ، ... بود.



نظر و انصاف ولی محترم: