



آذرماه


به نام خداوند جان و خرد

نام :

نام خانوادگی :

پیکی آهینه گلانی سوم

ریاضی

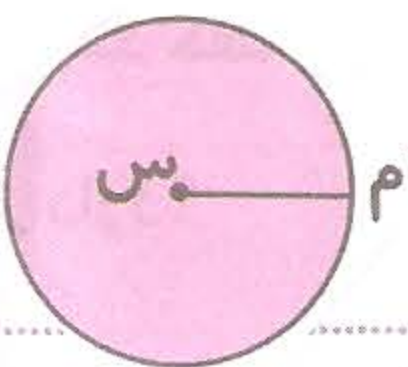


۱) در شکل روبه رو زاویه های راست را مشخص کنید.
• با توجه به شکل درست یا نادرست بودن جمله را مشخص کنید.

• مربع ۴ زاویه ی راست دارد. ۰

• مستطیل ۴ زاویه ی راست دارد. ۰

• مثلث ۳ زاویه ی راست دارد. ۰



۲) در دایره ی روبه رو، پاره خط MS چه نام دارد؟

• هر دایره چند مرکز دارد؟ هر دایره چند شعاع دارد؟

• اگر بخوایم دایره ای با رنگارنگ رسم کنیم، نوز سوزن پرگار مرکز دایره است یا نوز مدار؟

• آیا می توان چند دایره با یک مرکز داشت؟


• اگر شعاع دایره ۲ سانتی متر باشد قطر آن چند سانتی متر است؟

۳) فصل پانزدهم کسری از سال است؟

• ماه مهر چه کسری از فصل پانزدهم است؟

• ماه آذر چه کسری از ماه های سال است؟

۴) در شکل روبه رو قسمت را رنگ کنید.



• چه کسری از شکل رنگ شده است؟

• اگر مساحتی با قسمت رنگ نشده بنویسید و روی

شکل نشان دهید.

فارسی: ① کدام کلوزمان گذشته را نشان نمی دهد؟

افتاد ○ می رود ○ می خواست ○ خوابید ○

② علامت مناسبی در کنار هر یک از موارد زیر بگذار: (س، ع، ص، ...)

حضرت زینب (...) امام جواد (...) حضرت صدیقه (...)

③ نشانی (ص) بعد از نام پیامبر به معنای صلوات است. درست ○ نادرست ○

④ شعر لفظی سبز دعا سروده کیست؟ آن را کامل کن.

ابر در ... آسمان، بر سر ...

⑤ جدی زیر را به زمان خواسته شده برگردان:


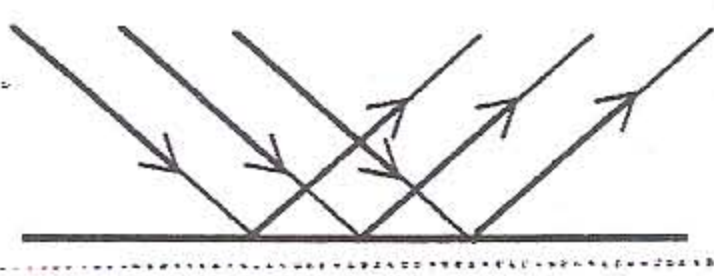
من هفته ای آینده به مسافرت خواهم رفت. (حال)

علوم:

① اجسامی را که از خود نور تولیدی کنند را ... می نامند.

② ما ... نوع آینه داریم، آینه ی ...، فرودرشته و ...

③ در کدام یک، بازتابش نور به صورت نامنظم است؟



④ برای دیدن یک جسم به ... نیاز داریم.

مطالعات اجتماعی: ① نیازهای افراد خانواده چیست؟

② بعضی از زنان شهری علاوه بر کار در خانه در ...

کاری کنند. ③ به پدلی که افراد از راه کار کردن به دست می آورند، ... می گویند.

هدیه های آسمان:

① در رکعت سوم و چهارم نماز چه زکری را می خوانیم؟

② مادر شبانه روز ... زینت و ... رکعت نمازی خوانیم.

