



دی ماه

به نام خداوند جان و خرد


نام:

نام خانوادگی:

پیک آدینه کلاس سوم






① شکل روبه رو را دسته بندی کنید و برای آن یک ضرب و دو تقسیم بنویسید:



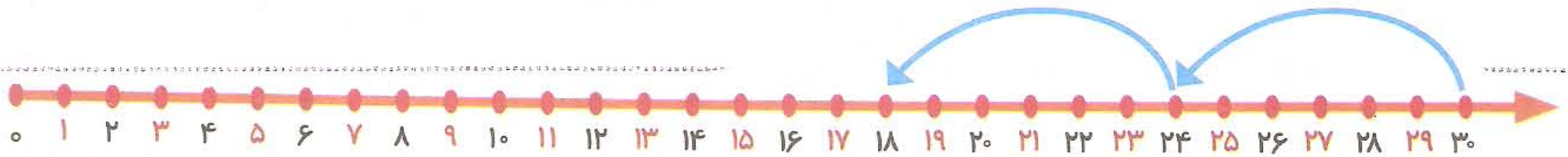
$\times =$

$\div =$

② در شکل های زیر ضلع های موازی را با رنگ کردن مشخص کنید:



③ محور زیر را کامل کرده و سپس برای آن تقسیم بنویسید:



④ در کلاسی ۷ بنحیت وجود دارد که بر روی هر بنحیت ۳ دانش آموزی نشیند

تعداد دانش آموزان این کلاس چند نفر است؟

⑤ شیرین ۲ شکلات دارد و می خواهد آن را به طر مسادی به ۴ نفر از دوستانش

بدهد. به هر کدام از دوستان شیرین چند شکلات می رسد؟

$8 \times \dots = 24$

⑥ جاهای خالی را کامل کن:

$(4 \times 3) + (2 \times 3) = \dots$ \times \dots $*(5 \times 4) + (6 \times 2) = \dots + \dots = \dots$

۱) درس یازدهم زبان از چند بند تشکیل شده است؟

۲) فعل های بند دوم درس یازدهم زبان را بنویسید.

۳) جایی خالی را با واژه دو یا شانزدهمی جا افتاده کامل کن.

بهترین وقت برای من ، آن لحظه ای است که مراد در آغوش می گیرید و به

تزدیک می کنید . سر بان قلب شما ، زیبایی و شگفتی دارد .

۴) در شعر آخر درس یازدهم زبان ، شاعر کتاب را به چه چیزی تشبیه کرده است؟

۵) معنی کلمه های زیر را بنویس:

تراغند یعنی کسی که هنرمند یعنی

۱) در ویسلی ساخته شده در فصل هشتم وقتی که با رنگ را به طرف خود می کشی

چه نوع آینه ای درست می شود؟

۲) ویسلی ساخته شده در درس هشتم علم را می توان به جای چه آینه ای به کار برد؟

تخت فرودگاه برآمده هر سه مورد صحیح است

۳) برای ساخت هر وسیله ابزار و وسایل خاص آن نیاز است . درست نادر است

۴) چرا برای ساخت این وسیله باید کاغذ آلومینیم نازک استفاده کرد؟

۵) قوی آلومینیم برای ساخت آینه مناسب است چون سطح آن است و نور را

مازتاب می کند .

۱) عید فطر اولین روز بعد از ماه رمضان است . درست نادر است

۲) این روز را خدا برای شاعر عیب قرار داده . در این روز بسیار دعا کنید . این سخن از کس است؟

و به کدام روز اشاره دارد؟

۳) روز میلاد حضرت زهرا (س) ، را روز نایبیده اند .



سر بلند باشید.