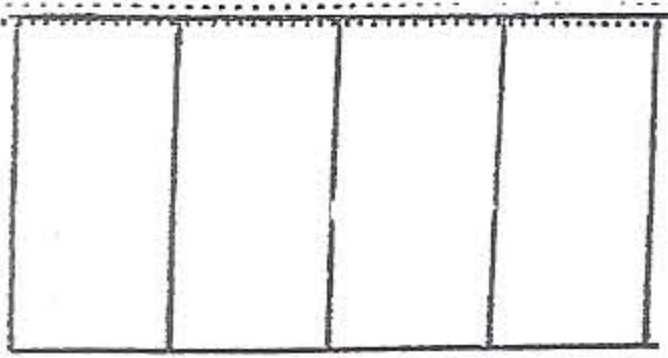
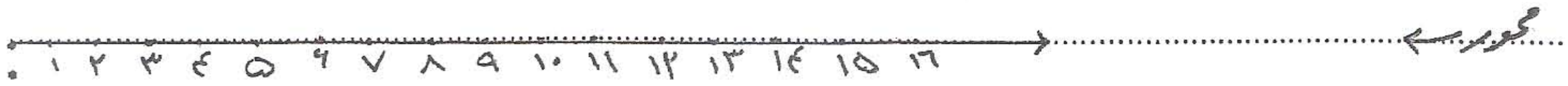


۱۶ ضرب ۱۵×۲ را به حالت کمی خواسته شده نشان بده.

شکل ←
جمع ←
الگو ←
بسطیل ←



۷ با کامل کردن شکل نشان دهید که $\frac{3}{4} = \frac{\square}{8}$

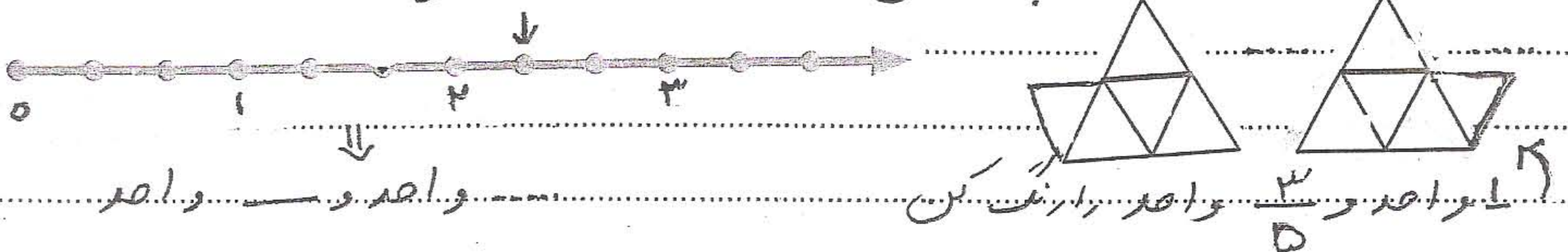
۸ درست یا نادرست بودن جمله کمی زیر را مشخص کنید

درست نادرست

-
-
-
-

بهترین وسیله برای کشیدن دایره پرگار است
هر مثلث ۳ گوشه‌ی راست دارد
نیشتر بزرگ عدد ۹۰۰ است
حرکت یک از ۶ متر مربع هم اندازه درست شده است

۹ جایی خالی را با عدد مناسب و شکل کمی را با رنگ کردن کامل کنید



۱۰ اتوبوسی ساعت ۷ صبح از مشهد به سمت گرگان حرکت کرد و بعد از هفت ساعت به گرگان رسید.
این اتوبوس چه ساعتی از بعد از ظهر به گرگان رسید؟

۱۱ مرجان ۵ ساله است و مادرش ۳۰ ساله است. مادر مرجان چند سال دارد؟

۱۲ فروشنده‌ای مداری را ۲ تومان می‌فروشد. او از فروش

تعداد مداری	۱	۲	۳	۴	۵	۶
سود						

۳ عدد از چند تومان سود می‌برد؟
چند بار بفروشد که بتواند یک عدد دیگر بخرد؟



آفرین ...



دی ماه

به نام خداوند جان و خرد

نام:

پیک آدینه کلاسی سوم
دوره کی ریاضی

نام خانوادگی:

یکان	دهگان	صدگان	هزارگان

① عدد ۶۸۲۴ را به حروف بنویسید.
این عدد را در جدول ارزش مکانی رو به رو قرار دهید.

ارزش کدام رقم از بزرگتر است؟ (ارزش مکانی)

عدد ۶۸۲۴ را به صورت گسترده بنویسید.

② مقایسه کنید و علامت ($>$ ، $=$ ، $<$) بگذارید:

$$\frac{3}{7} \bigcirc \frac{4}{7}$$

$$\frac{4}{5} \bigcirc \frac{4}{10}$$

$$\frac{2}{8} \text{ واحد و } \frac{3}{8} \text{ واحد } \bigcirc \frac{5}{8} \text{ واحد}$$

③ اگر دوی زیر را کامل کن: ۵۲۵۰ و ۵۱۵۰ و

۲۷۵۰ و ۲۵۰۰ و ۲۲۵۰

④ در جای خالی، عدد مناسب بنویس:

$$(13 \times 2) + (2 \times 2) = \dots \times$$

$$(9 \times 3) + (4 \times 1) = \dots + \dots = \dots$$

* ۴ کیلومتر و ۵۲ متر می شود — متر. ۶۰۲۰ گرم می شود — کیلوگرم و — گرم

* ۱۰۰ اتومان ... ریال است و ۳۱۸ سانتی متر ... متر و ... سانتی متر است

* قطر دایره ای ۸ سانتی متر است. شعاع این دایره چند سانتی متر است؟

⑤ عدد داخل مستطیل به کدام عدد نزدیکتر است؟
۳۰۰۰ ←

۳۱۲۰

 → ۴۰۰۰