



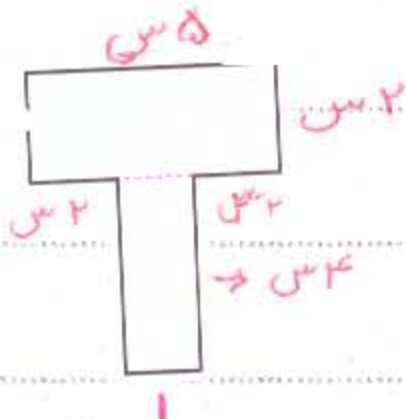
بهمن ماه

به نام خداوند جان و خرد

نام :

نام خانوادگی :

پیک آهنگ کلاسی سوم

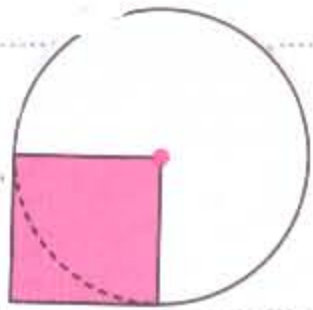


① مساحت و محیط شکل روبه رو را به دست آورید :

محیط :

مساحت :

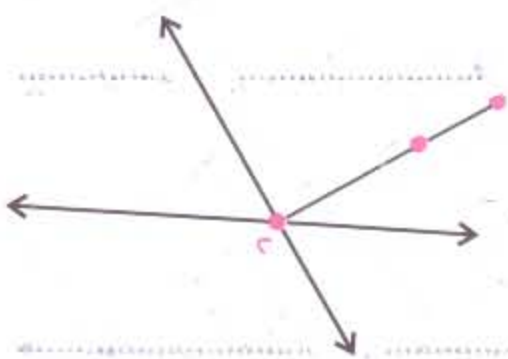
② اگر شعاع دایره ۳ سانتی متر باشد، مساحت و محیط قسمت رنگ شده را به دست آورید :



محیط :

مساحت :

③ با توجه به شکل، تعداد خط راست، پاره خط و نیم خط را مشخص کن و نام ببر.



۳ خط راست :

پاره خط :

نیم خط :

④ مساحت مستطیلی ۱۶ سانتی متر مربع است اگر طول آن ۸ سانتی متر باشد. عرض آن چند سانتی متر است ؟

⑤ محیط مربعی ۱۲ سانتی متر است. مساحت آن چه قدر است ؟

(راه حل را بنویسید و اصل ضلع را حساب کنید)

⑥ شیا ۳ تومان پول دارد و می تواند با آن ۵ چوب رنگی بخرد. اگر نخواهد ۹ چوب بخرد چه قدر پول باید داشته باشد ؟

۱) از میان نام های زیر، شاعران و نویسندگان را مشخص کن.

مولوی () ابوریحان بیرونی () حافظ ()

بوعلی سینا () خیام ()

۲) دو کلمه از متن درس ایران عزیز پیدا کن که با «ان» جمع بسته شده باشد.

۳) منظور از شعر به دریا زده ای، یا به دریا کردی چیست؟

۴) هم خانواده های کلمه های زیر را بنویس:

حفظار () حویص () عاشق () صبور ()

۵) به داستان کوتاهی که از گذشته به جای مانده و بایند و نصیحت همراه است ... می گویند.

۶) خلیجی که در جنوب کشور ایران قرار دارد، چه نام دارد؟

۷) معنی واژه های زیر را بنویس:

نهرالسیم () گسترده () پرورد ()

مطالعات اجتماعی

۱) خانه کدام یک از نیازهای ما را برطرف می کند؟

استراحت () آرایش () خواب () هوی دارد ()

۲) اعضای خانواده، در خانه دور هم ... می شوند و با هم ... می کنند.

۳) چرا هوی انسان که به خانه نیاز دارند؟

هدیه های آسمان

۱) دختران وظیفه دارند بعد از سن تکلیف چه سمتی را بپذیرند؟

خود را از نامحرمان بپوشانند؟

۲) کدام یک از افراد زیر، به دختران بعد از سن تکلیف نامحرم هستند؟ علامت بزنند.

پدر () دایی () پسر دایی () شوهرخاله () پسر برادر () پسرخاله () شوهر عمه () پسر بزرگ ()



تندرست و سلامت باشید.