




به نام خداوند جان و خرد

نام خانوادگی:

پیک آهینه کلاس سوم

اسفند ماه




ریاضی

① محیط شکل روبه رو را به دست آورید:

مساحت شکل چه قدر است؟

② یک بسته مدار، ۵ مدار دارد. ۷ بسته مدار، چند مدار وجود دارد؟



۴ مدار در چند بسته مدار جای می گیرد؟

③ مرده روزی ۴ صفحه از کتابش را می خواند. ۲۴ صفحه از کتابش را

در چند روز می خواند؟

در ۱۱ روز چند صفحه می خواند؟

④ مجموع ۲ عدد ۱۱ و حاصل ضرب آن ۱۸ است. آن دو عدد کدامند؟

$\bigcirc + \bigcirc = 11$ و $\bigcirc \times \bigcirc = 18$

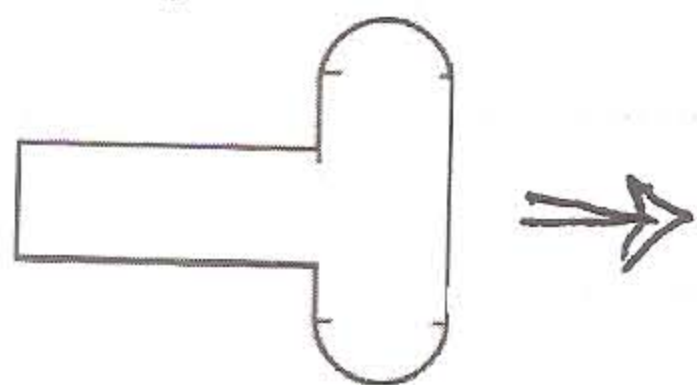
⑤ نیلوفر ۷ ساله است و سن مادرش ۴ برابر سن نیلوفر است. نیلوفر و مادرش

روی هم چند سال سن دارند؟

⑥ ۳ دسته ی ۴ تایی گل را به طور مساوی بین ۲ نفر تقسیم کرده ایم. به هر نفر چند گل

رسیده است؟

⑦ شکل زیر از خط های مختلفی تشکیل شده. خط ها را جدا کنید و قسمت های جدا شده را رسم کنید.



فارسی

- ۱) برای هر کدام از کلمه های زیر، کلمه ی هم خانواده بنویس.
- دقیقه (.....) مناطق (.....) حضور (.....) شجاعانه (.....)
- ۲) کدام یک از کلمه های زیر را می توان هم با « دان » و هم با « زار » ترکیب کرد؟
- نمک ، گل ، نخل ، شن ، بخی ، شمع ، لاله ، خاک
- ۳) هر واژه را به معنای خودش وصل کن:

اتحاد ○ شجاعانه ○ پیاد ○ دفاع ○ کنار آسمان ○

دلاورانه ○ یکی شدن ○ افق ○ گسترده ○ محافظت ○

- ۴) من همیشه دارم آقا غار دانه دارد. (۵) در جلدی زیر چه چیزی به چیز دیگر تشبیه شده؟
- صندلی دارد آقا من پارا نم. چشمان دوستم مثل اس برقی می زدوی درختید.

علوم

- ۱) بدن پستانداران از چشم یا پوشیده شده است مثل
- ۲) از بزرگترین پرندگان است که نمی تواند پرواز کند
- ۳) خردگان با تنفس می کنند و پوشش بدنشان است
- ۴) دال است که با نفس می کشند در همین خاطر مرتب به سطح آب می آید

هدیه های آسمان

- ۱) نظم یعنی چه؟
- ۲) امام علی (ع) می فرماید: « به شما فرزندانم سفارش می کنم مراقب باشید و در کارهای میان رعایت کنید.» از کتاب

مطالعات اجتماعی

- ۱) اگر در مدرسه دانش آموزی صد می بیند چه کسی مسئول رسیدگی به او است؟
- ۲) رعایت مقررات فقط مخصوص کلاس است و نیازی به رعایت مقررات در نمازخانه ی مدرسه نیست
- درست ○ نادرست ○



همیشه شاداب
باشید.